

2022年度

入学試験問題

社 会

最初に、以下の注意事項をよく読んでください。

1. 問題冊子は監督者の指示があるまで開いてはいけません。
2. 監督者の指示により、最初に問題冊子の表紙と解答用紙の、指定され
たらんに受験番号と氏名を記入してください。
3. 試験問題の内容に関する質問には応じません。それ以外の用事がある
ときは手をあげてください。
4. 受験中気分が悪くなったときは、監督者に申し出てください。
5. 解答用紙は持ち帰らないでください。

氏名		受験 番号	5			
----	--	----------	---	--	--	--

1 次の文章を読んで、後の各問いに答えなさい。

世界が「新型コロナウイルスとのたたかい」に直面してから約2年になります。最初は中国・武漢市での原因不明の肺炎患者の報告でしたが、2020年1月に世界保健機関が新型のウイルスであることを確認しました。①日本と中国は経済的な結びつきが強く、両国間の人の移動も活発でしたが、中国での感染拡大を受けて、日本政府は武漢市などに滞在歴がある外国人の入国を拒否する決定をしました。この時期は中国の旧正月にあたり、②例年であれば多くの中国人観光客が日本に来る時期でした。

2月になると中国以外の国での感染が目立つようになり、3月にはヨーロッパやアメリカでも感染拡大が見られるなど、新型コロナウイルスは世界に広まってきました。グローバル化という③国境を越えて人々が行き交う現代世界において、またたく間に感染症が世界に広がっていくさまを私たちは目の当たりにしました。

日本では、2月にクルーズ船内での感染拡大や国内での感染確認などを受けて、政府は緊急事態宣言を出せる法律の整備を進めました。3月には全国の学校が臨時休校になり、④東京オリンピックの1年延期が決まりました。4月には⑤東京都、神奈川県、埼玉県、千葉県、⑥大阪府、兵庫県、福岡県に緊急事態宣言が出され、その後、対象が全国に拡大しました。5月には順次、緊急事態宣言は解除されましたが、その後は「第〇波」と呼ばれる新規感染者数の増加がくり返されました。

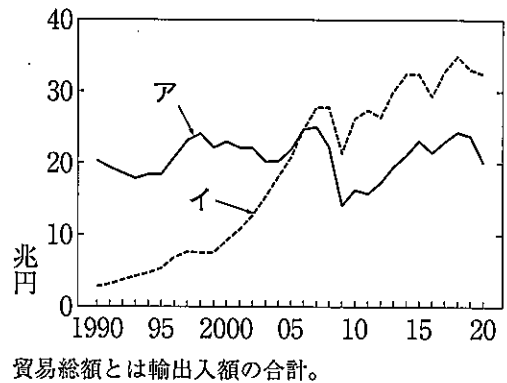
新型コロナウイルスの感染拡大は私たちのくらしや産業にどのような影響を及ぼしてきたのか、地理的な観点からいくつか取り上げてみたいと思います。まず、人の移動に関することとして、政府は不要不急の外出や⑦「都道府県をまたぐ移動」の自粛を人々に要請しました。最初の緊急事態宣言の時には、オフィス街や繁華街では人の姿がずいぶん少なくなりました。その後くり返された「第〇波」では、飲食店に対する営業の時間短縮や、⑧酒類を提供しないことなどを求めましたが、「人の流れ」は「第1波」よりも増える傾向にありました。このような日々の「人の流れ」とともに、⑨転入・転出という住居の移動についてもコロナ以前とは異なる動きが見られました。

人の移動の減少にともない、観光業や観光地は大きな影響を受けました。コロナ以前、日本を訪れる外国人旅行者数は7年連続で過去最高を更新していましたが、2020年は前年に比べて90%近く減少しました。国内旅行者数についても大きく減少しました。これらは当然、⑩沖縄県などに代表される観光地の消費の減少や、鉄道や航空といった交通の需要に大きな影響をおよぼしました。

さまざまな製品の需要や生産にも大きな影響がありました。例えば、⑪鉄鋼や自動車の生産は国内的にも世界的にも減少しました。自動車については日本国内でも一時的に生産を停止する工場が現れました。これは、感染拡大による輸出先の需要の低下や、部品を生産する別の国・地域の感染拡大の影響もあったようです。一方でテレワークや「ステイホーム」に関連する製品やサービスのように、販売額が増加したものもありました。

最終段落

問1 下線部①に関連して、図1中のア・イは「日本と中国との貿易総額」か「日本とアメリカ合衆国との貿易総額」のいずれかの推移を示したものです。この図について述べた文X・Yの正誤の組み合わせとして正しいものを下の1～4から1つ選び、番号で答えなさい。



貿易総額は輸出入額の合計。
『日本国勢図会 2021/22年版』より

図1

X. 1990年の時点で約20兆円だったアが「日本とアメリカ合衆国との貿易総額」で、1990年代から急増したイが「日本と中国の貿易総額」である。

Y. 2000年代になってイが急増したのは、日本からの自動車の輸出が増えたことと、相手国からの石油の輸入が増えたことがおもな理由である。

1. X : 正 Y : 正 2. X : 正 Y : 誤 3. X : 誤 Y : 正 4. X : 誤 Y : 誤

問2 下線部②に関連して、表1は2019年1月における京都府、福岡県、沖縄県、全国の外国人延べ宿泊者数を出身地(国・地域)別に示したもので、表中のア～ウは韓国、台湾、中国のいずれかです。それぞれの国・地域にあてはまるものを表中のア～ウから選び、記号で答えなさい。

	(万人)		
	ア	イ	ウ
京都府	4.7	17.3	7.3
福岡県	19.4	3.5	4.5
沖縄県	15.1	8.4	12.5
全国	138.7	231.0	111.3

『宿泊旅行統計調査』より作成。

表1

問3 下線部③に関連して、紛争や政治的な混乱などによって他国への移住を余儀なくされた人のことを何というか答えなさい。

問4 下線部④に関連して、東京オリンピックは東日本大震災からの復興を世界に示すことが目的の一つでした。東日本大震災から10年以上経過した被災地の最近の様子について述べた文X・Yの正誤の組み合わせとして正しいものを下の1～4から1つ選び、番号で答えなさい。

X. 福島県では震災当時は県外に避難する人も多くいたが、現在では放射性物質の除染作業が終わり、ほとんどの人がもとの地域にもどっている。

Y. 福島第一原子力発電所では事故により放射性物質を含んだ汚染水が発生し、その水を貯蔵するためのタンクが発電所内に増え続けている。

1. X : 正 Y : 正 2. X : 正 Y : 誤 3. X : 誤 Y : 正 4. X : 誤 Y : 誤

問5 下線部⑤に関連して、図2中のア～エは、東京都、神奈川県、埼玉県、千葉県いずれかの農産物出荷額における米・野菜・畜産のしめる割合を示したものです。千葉県にあてはまるものをア～エから1つ選び、記号で答えなさい。

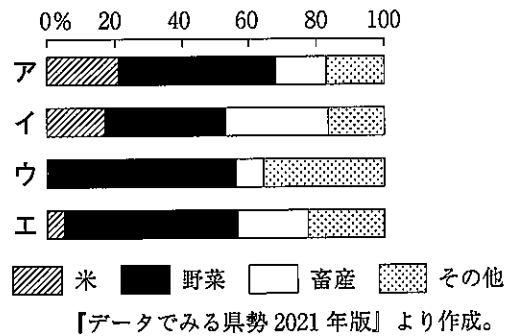


図2

問6 下線部⑥に関連して、図3は大阪府・兵庫県とその周辺を示したものです。図3に関する後の各問いに答えなさい。

(1) 大阪湾沿岸にも津波の被害が想定され、今後30年以内に発生する確率が70%と予想されている地震の震源域として、適当なものを図3中のア～エから1つ選び、記号で答えなさい。

(2) 表2は、図3中で示した兵庫県内の3地点における平均気温と降水量（いずれも1月、8月、年間）を示したものです。これらについて述べた下の文中の空らん【A】～【E】にあてはまる語句を後の1～8からそれぞれ選び、番号で答えなさい。

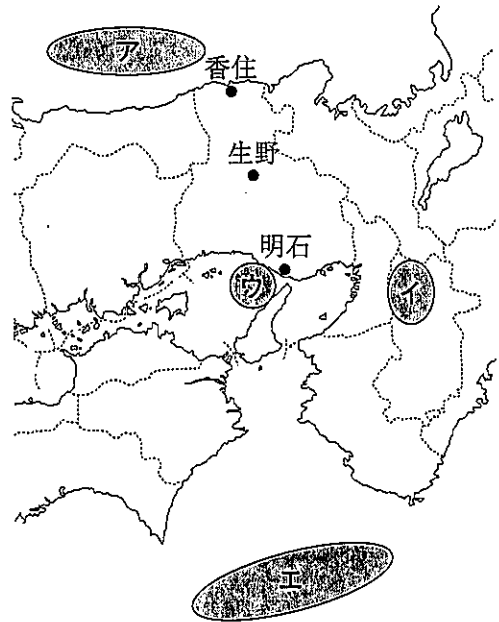


図3

	平均気温 (°C)			降水量 (mm)		
	1月	8月	年間	1月	8月	年間
あ	5.2	27.7	15.9	35.1	86.2	1156.6
い	1.9	25.7	13.4	97.0	196.3	2091.8
う	4.5	26.2	14.7	260.4	153.1	2213.5

統計期間は1991～2020年。

気象庁ホームページより作成。

表2

表2中の「あ」は、他の2地点に比べると1月、8月、年間のいずれも降水量が少ない。このことから「あ」は【A】に近い所に位置すると考えられる。「い」は、1月の平均気温が最も低いことから【B】に位置すると考えられる。「う」は、1月の降水量が最も多いことから【C】に位置すると考えられる。「う」の冬の降水量が多いのは、大陸からの【D】が、蒸発量の多い【E】の上を通ることによって大量の水蒸気をもたらされるためである。

1. 太平洋側
2. 日本海側
3. 瀬戸内
4. 内陸部
5. 寒流の対馬海流
6. 暖流の対馬海流
7. 冷たく乾いた風
8. 冷たく湿った風

(3) 表2中の「あ」～「う」にあてはまる地点の組み合わせとして正しいものを次の1～6から1つ選び、番号で答えなさい。

	1	2	3	4	5	6
あ	明石	明石	生野	生野	香住	香住
い	生野	香住	明石	香住	明石	生野
う	香住	生野	香住	明石	生野	明石

問7 下線部⑦に関連して、国勢調査の統計をもとに昼夜間人口比率を算出すれば、「都道府県をまたぐ移動」の傾向をみることができます。表3は、東京都、神奈川県、埼玉県、千葉県
1990年と2015年の昼夜間人口比率を示したものです。表3について述べた文中の空らん【F】～【H】にあてはまる語句を下の1～4からそれぞれ選び、番号で答えなさい。なお、昼夜間人口比率とは昼間人口を常住（夜間）人口で割った値のことです。

	1990年	2015年
東京都	123.1	117.8
神奈川県	89.4	91.2
埼玉県	84.9	88.9
千葉県	86.0	89.7

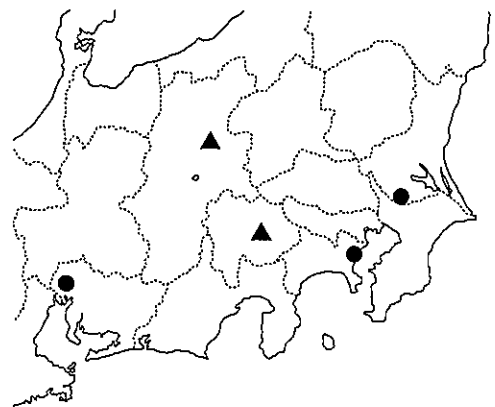
【データでみる県勢2021年版】より作成。

表3

昼夜間人口比率が100を越えると【F】が多く、100を下回ると【G】が多いことを示している。1990年に対して2015年の東京都の昼夜間人口比率の低下がみられる。その理由との一つとして、東京都の【H】があると考えられる。

1. 都心部の再開発による人口増加
2. 都心部のドーナツ化現象による人口減少
3. 他の地域への通勤・通学
4. 他の地域からの通勤・通学

問8 下線部⑧に関連して、図4は酒類を製造しているグループ企業きぎょうにおけるビール工場とワイナリー（ワインの製造所）の分布を●と▲で示したものです。図4について述べたA～Dの各文のうち、正しいものの組み合わせを下の1～4から1つ選び、番号で答えなさい。



K社ホームページより作成。

図4

- A. ●はビール工場を、▲はワイナリーを示している。
- B. ●はワイナリーを、▲はビール工場を示している。
- C. ビール工場は、輸送費の面で有利な消費地の近くに立地している。
- D. ワイナリーは原料の輸入に有利な場所に立地している。

1. AとC
2. AとD
3. BとC
4. BとD

問9 下線部⑨に関連して、表4は、東京都の月ごとの転入^{ちようか}超過数（転入数から転出数を引いた値）を示したものです。この表から読み取れることについて述べた文X・Yの正誤の組み合わせとして正しいものを下の1～4から1つ選び、番号で答えなさい。

(人)

	1月	2月	3月	4月	5月	6月	7月	8月	9月	10月	11月	12月
2019年	3,763	4,271	39,556	13,073	4,481	3,175	1,199	3,648	3,362	2,657	2,254	1,543
2020年	3,286	4,578	40,199	4,532	-1,069	1,669	-2,522	-4,514	-3,638	-2,715	-4,033	-4,648
2021年	-1,490	-1,838	27,803	2,348	-661	-583						

【住民基本台帳人口移動報告】より作成。

表4

X. 東京都に最初の緊急事態宣言が出された月から数か月の間、東京都では転出数が転入数を上回っていた。

Y. 2020年12月は転入超過数をもっともマイナスとなっているので、東京都からの転出数が最大だったことが分かる。

1. X：正 Y：正 2. X：正 Y：誤 3. X：誤 Y：正 4. X：誤 Y：誤

問10 下線部⑩に関連して、沖縄県にあるアメリカ軍普天間^{ふてんま}飛行場は周囲を市街地に囲まれており、「危険な基地」とされています。普天間飛行場は1996年に日米両政府の間で返還^{へんかん}が合意されました。現在、その移設先とされている場所を図5中のア～エから1つ選び、記号で答えなさい。

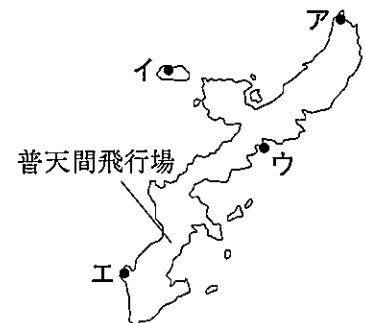


図5

問11 下線部⑪に関連して、表5は最近の粗鋼と自動車の生産上位国と、1990年のそれらの国の生産量・台数を比較したものです。表中のA～Dはインド、韓国、中国、日本のいずれかです。インドと日本にあてはまるものをA～Dからそれぞれ選び、記号で答えなさい。

(万t)

(万台)

粗鋼			自動車		
国	1990年	2019年	国	1990年	2018年
A	6,635	99,634	A	9.3	2,780.9
B	1,496	11,125	アメリカ	607.7	1,129.8
C	11,034	9,928	C	994.8	973.0
アメリカ	8,973	8,793	B	17.7	514.3
ロシア	6,703	7,157	ドイツ	481.3	512.0
D	2,313	7,142	メキシコ	59.8	410.1
ドイツ	3,843	3,968	D	98.7	402.9

1990年のロシアは1992年の生産量。

【データブック オブ・ザ・ワールド 2021年版】より作成。

表5

問12 本文の内容をふまえて、最終段落に入る文章としてもっとも適当なものを次の1～4から1つ選び、番号で答えなさい。

1. 新型コロナウイルスは、人やモノの移動という点で地域と地域の結びつきを変えています。それによって地域の産業や暮らしに影響が出ています。どこで、どのような影響が生じたのかを把握することが、今後の対応に向けて不可欠といえます。
2. 新型コロナウイルスは国際的な人の移動には大きな変化をもたらしましたが、モノの移動という点では大きな影響はみられません。コロナ後は、一刻も早く人の移動を活発にして、観光関連産業の業績を回復させる必要があります。
3. 新型コロナウイルスによって従来の観光地は旅行客の減少など大きな影響を受け、その回復にはめどがたっていません。そのため、コロナ後の観光地では観光関連産業から重化学工業へ主要な産業を変化させる必要があります。
4. 新型コロナウイルスによる影響は、優先的にワクチンの接種が進んだ若い世代で小さいことが分かりました。そのため、できるだけ多くの人へのワクチン接種が望まれますが、接種するかしないかは個人の判断を尊重すべきです。

2 次の日本の歴史に関する文章を読んで、後の各問いに答えなさい。

現在、日本には47の都道府県が存在しますが、歴史的に「府」や「県」が定められたのは1871年の明治政府による①廃藩置県によるものでした。それ以前の1869年に、それまで②江戸幕府のもとで大名にあてられていた土地や人民に対する支配権は、明治政府に移されることになりました。このことは版籍奉還と呼ばれています。明治政府は、移された土地と人民を管理するために、江戸時代以来の「藩」の統治の方法を改め、「府」、「県」を置くことで、中央集権化をすすめる方針を決定しました。それが廃藩置県と呼ばれる地方制度の改革です。初めは3府302県でしたが、県の統廃合がすすめられ、1881年には、ほぼ現在の行政区分と同じ3府42県になりました。

ところで現在の47都道府県のうち、1881年時点での統廃合に入っていない2つの地方公共団体があります。2つの地方公共団体のうち、一つは沖縄県です。そしてもう一つは北海道です。いずれも1871年に廃藩置県が行われなかった地方です。

沖縄は、江戸時代には「琉球王国」という独立国でしたが、17世紀後半に薩摩藩の支配を受けるようになりました。薩摩藩は、琉球王国を支配することにより、沖縄の特産物だけではなく、琉球王国が行っていた中国や東南アジア交易の利益も手に入れることができるようになりました。

廃藩置県で薩摩藩が鹿児島県になると、沖縄には1872年、「琉球藩」が設置されました。そして1879年に本土におくれて廃藩置県が行われたのです。沖縄は、先に述べたように1879年に事実上、日本の一行政地域になりますが、③15世紀から17世紀には、中国や東南アジア諸国と独自の交易を行ってきました。④奈良時代には、日本に仏教の戒律を伝えた唐の僧侶である【A】が乗った遣唐使船が漂着したという記録も残っています。

一方の北海道は、江戸時代には松前藩が置かれていましたが、多くの地域では藩や幕府の支配は弱いものでした。明治政府は、明治維新後の1869年、北海道を直轄地として「開拓使」を設置しました。そして1882年には3県を設置しましたが、1886年には再び県を廃止し、「北海道庁」を設置しました。

江戸時代には「蝦夷地」と呼ばれた北海道ですが、もともと「蝦夷」ということばは、⑤ヤマト政権が、自分たちに従わない東国の人々に対して差別的に用いてきた呼び方で、特定の地域や人々を指すことばではありませんでした。「蝦夷」と呼ばれる範囲は、8世紀後半の征夷大将軍【B】による征討など、ヤマト政権（朝廷）の東北への拡大とともにせばまりました。12世紀には⑥平泉を中心に藤原氏が勢力を東北地方全域に広げていきました。⑦鎌倉幕府が武家政権を確立した13世紀以降には、「蝦夷」は津軽海峡を越えた現在の北海道地方をさすことばになりました。北海道には、古くからアイヌの人々が住み、豊かな自然を大切にしながら、狩りや漁をして暮らしてきました。

京都で将軍【C】の後継者争いで応仁の乱が起こっているころ、「蝦夷地」で日本の武士が勢力を広めるようになり、やがて⑧松前藩の基礎が築かれるようになります。

江戸時代になると、⑨松前藩は幕府からアイヌと独占的に交易する権利を得て、アイヌの人々から狩猟採集物を独占的に手にいれることで大きな利益をあげていました。17世紀後半には、不公平な取引に不満を持ったアイヌの人々が【D】を指導者として松前藩と戦いましたが、武力によっておさえられ、それ以後、アイヌの人々への支配が強まりました。

1854年に日本が開国し、やがて⑩諸外国との間に貿易が始まると、その影響は北海道地方にも大きくおよびようになりました。アイヌの人々は北海道のみならず、国後、択捉など、現在の北方領土や、樺太にも住んでいたため、江戸幕府や明治政府はロシアとの間で日本の北方の国境を決める交渉を行い、ロシアとの国境を確定していきました。

20世紀初め、ロシアとの間に日露戦争が起こり、その結果、日本の国際的地位が向上しました。そして、1911年外務大臣【 E 】の時に、政府がすべての輸入品に自由に関税をかけることができる新しい条約が、アメリカを初めとする各国との間に結ばれました。

不平等条約を撤廃した日本は、1920年代には、国内では大正デモクラシーと呼ばれる民主主義の風潮が高まり、鉄鋼業などの重化学工業の生産も向上しましたが、⑪社会は不安定でした。一方対外的には、朝鮮、そして中国へと、徐々に大陸へと勢力をのばすようになりました。特に1929年の世界恐慌による不況の影響で、日本はアジア各地へ勢力を伸ばすようになっていき、中国と戦争状態になりました。この日本の動きは、アメリカ、イギリスを初めとする欧米諸国との対立を生み、やがて、⑫日本の東南アジア進出によってアメリカやイギリスとの間に戦争がひきおこされました。

1945年、戦争に負けた日本は、平和主義を掲げ、世界との協調をはかるようになりますが、アメリカと⑬ソ連が対立する状況の中で、なかなか国際社会への復帰ができませんでした。

問1 下線部①について、廃藩置県後に政府が進めた中央集権化政策としてまちがっているものを次の1～4から1つ選び、番号で答えなさい。

1. 学制の制定
2. 五榜の掲示
3. 徴兵令の発布
4. 地租改正

問2 下線部②に関連して、江戸時代の農民について正しく述べた文を次の1～4から1つ選び、番号で答えなさい。

1. 農民や漁民の、百姓と呼ばれた身分の割合は、江戸時代を通じて人口の約95%を占めていた。
2. 幕府や藩は隣組制度をつくらせ、年貢の納入やさまざまな税の負担に共同で責任を負わせた。
3. 17世紀初めには、多くの百姓や町人の子どもは武士の子どもとともに寺子屋で学ぶようになった。
4. 18世紀以降、大きなききんなどの時には、年貢の引き下げなどを要求して一揆が多く発生した。

問3 下線部③に関連して、15世紀から17世紀の日本で起きた出来事について述べた文X～Zについて、古いものから年代順に正しく配列したものを下の1～6から1つ選び、番号で答えなさい。

- X. 足利義満が中国の明と勘合貿易をはじめた。
Y. フランシスコ＝ザビエルによってキリスト教が伝来した。
Z. 民衆が「徳政」を要求し、正長の土一揆を起こした。

1. X—Y—Z
2. X—Z—Y
3. Y—X—Z
4. Y—Z—X
5. Z—X—Y
6. Z—Y—X

問4 下線部④に関連して、奈良時代の農民について正しく述べた文を次の1～4から1つ選び、番号で答えなさい。

1. このころの農民の多くは、弥生時代と同様の^{たてあな}竪穴住居に住んでいたと考えられている。
2. 8世紀の後半になると、自ら^{かいこん}開墾して耕した土地は、口分田として私有が認められた。
3. 男子には都での土木工事や、天皇の警護である^{まきもり}防人、九州を守る^{えいじ}衛士という義務もあった。
4. このころ成立した『古事記』という歌集には、天皇から^{しよみん}庶民までは幅広い人々の歌が収められた。

問5 下線部⑤のヤマト政権について述べた文X・Yの正誤の組み合わせとして正しいものを下の1～4から1つ選び、番号で答えなさい。

X. 3世紀末から6世紀ごろにかけて、九州から東北地方まで^{こうぞく}豪族や王により「^{こかん}古墳」がつくられた。
Y. ヤマト政権は大王（のちの天皇）と豪族を中心に政治が行われていた。

1. X：正 Y：正 2. X：正 Y：誤 3. X：誤 Y：正 4. X：誤 Y：誤

問6 下線部⑥に関連して、「平泉」の場所を図1中の1～4から1つ選び、番号で答えなさい。

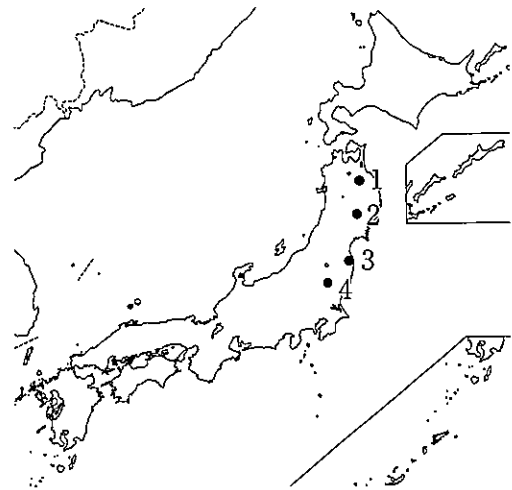


図1

問7 下線部⑦に関連して、鎌倉時代の武士について正しく述べた文を次の1～4から1つ選び、番号で答えなさい。

1. 御家人は天皇から^{ごおん}御恩として領地をもらい、それを将軍に承認してもらい、家来になった。
2. ^{りつりょう}律令以外に『^{ぶけしよほつと}武家諸法度』などの武士のための法律が整えられるようになった。
3. 御家人が、将軍から「^{こくし}国司」や「^{ぢとう}地頭」として任命され、その領地を支配した。
4. 13世紀後半には、^{げんこう}元寇への防備のため御家人の負担が増し、^{しつげん}執権の北条氏の勢力が強まった。

問8 下線部⑧に関連して、松前藩の藩主である松前氏は1599年に改姓して松前氏を名のようになりました。この時代に描かれた図2に関して、次の各問いに答えなさい。

- (1) この図に描かれた船などによって行われていた貿易を何といいますか。
- (2) この図に描かれた船で貿易やキリスト教を日本に広めようとした国はどこですか。一つ答えなさい。




図2

Wikimediacommons より

問9 下線部⑨について、松前藩はアイヌの特産物を手に入れる以外にも、アイヌを通して他の利益も手に入れていました。それはどのようなものだったと考えられますか。本文と図3を参考に答えなさい。なお、図3中の円はアイヌの生活圏を、太線——は交易路を示しています。

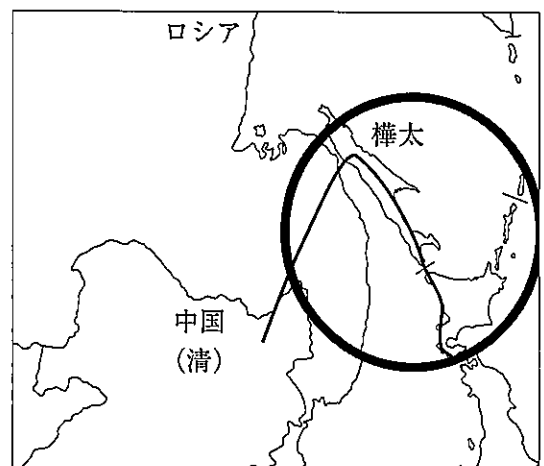


図3

【いま学ぶアイヌ民族の歴史】より作成。

問10 下線部⑩に関連して、図4は、1854年～58年の平均を1としたときの1859年から1867年にかけての大阪での商品の物価を表しています。この図に関して、次の各問いに答えなさい。

- (1) 図のA, Bにあてはまる商品の組み合わせとして正しいものを次の1～4から1つ選び、番号で答えなさい。
 1. A:小麦 B:木綿
 2. A:小麦 B:石炭
 3. A:米 B:木綿
 4. A:米 B:石炭

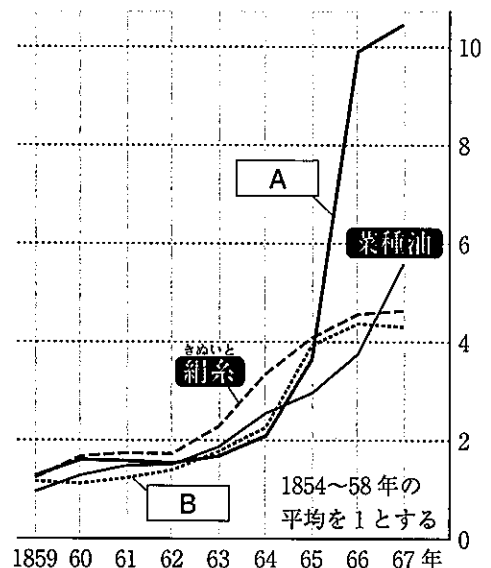


図4

【近世大阪の物価と利子】より作成。

(2) この図にも見られるように、1860年代後半になると、物価の急激な上昇が見られるようになりました。その動きに関係しているものの一つに外国と結ばれた条約があります。物価の上昇に関係していると考えられる条約の名前を漢字で答えなさい。

問11 下線部⑪に関連して、図5は1905年から1925年にかけての米の価格を表しています。図5および下の文中の空らん【あ】、【い】にあてはまる歴史上のできごとを答えなさい。

第一次世界大戦中に徐々にあがってきた米の価格は、【あ】にともなう米の買占めなどにより、急激に上昇し、人々の不満が高まって【い】がおこった。

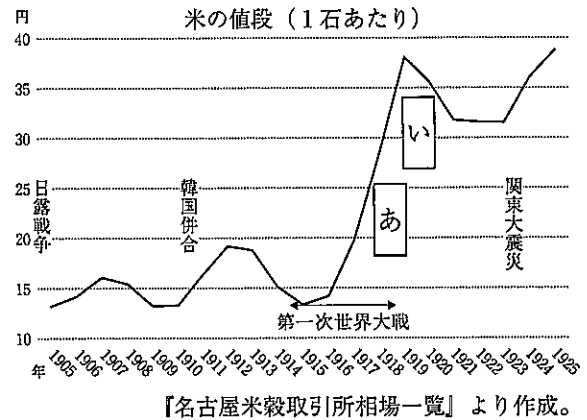


図5

問12 下線部⑫に関連して、日本がこの地域に進出したおもな理由の一つに、アメリカによる経済制裁があります。経済制裁によって日本がこの地域に進出した理由を説明しなさい。

問13 下線部⑬に関連して、第二次世界大戦後のソ連と日本の関係について述べた文X・Yの正誤の組み合わせとして正しいものを下の1～4から1つ選び、番号で答えなさい。

X. サンフランシスコ講和会議で日本はソ連と平和条約を結んだ。

Y. 日ソ共同宣言で、ソ連は日本の国際連合への加盟を承認した。

1. X：正 Y：正 2. X：正 Y：誤 3. X：誤 Y：正 4. X：誤 Y：誤

問14 本文の内容に照らしてあてはまる文を次の1～6のうちから2つ選び、番号で答えなさい。

1. ヤマト政権は大化の改新により、東北地方までをその支配下に置いた。
2. 奈良時代には遣唐使が派遣され、唐から新しい仏教が伝わった。
3. 「蝦夷」とは、アイヌ民族のことを指し、その居住地である北海道を「蝦夷地」といった。
4. 琉球王国は中国の「宋」や「元」とも頻りに貿易を行っていた。
5. 廃藩置県によって、土地や人民の支配が、大名から明治政府に移った。
6. 大正時代には重化学工業の生産が向上し、民主主義的な考え方が多くの人々の間に広がった。

問15 文中の【A】～【E】にあてはまる人名をそれぞれ答えなさい。ただし、【D】以外はすべて漢字で答えなさい。

3 次の各問いに答えなさい。

問1 現在の日本の政治では、国権が一部に集中しないように三権分立という考え方が採用され、国会と内閣と裁判所のそれぞれの機関がつりあいを保って国民の生活を支えています。それぞれの機関がわたしたち国民によって運営されているという自覚をもって政治とのかかわり方を考えていきたいですね。日本の政治について次の各問いに答えなさい。

(1) 国会の仕事として正しいものを次の1～4から1つ選び、番号で答えなさい。

1. 条約の締結 2. 予算の作成 3. 内閣総理大臣の指名 4. 違憲立法の審査

(2) 内閣のもとには、様々な仕事を分担する省庁があります。例えば、昨年開催された東京オリンピックに向けて2015年に新設されたスポーツ庁が選手の競技力向上のための取り組みを行いました。スポーツ庁が行政上所属する省として正しいものを次の1～4から1つ選び、番号で答えなさい。

1. 厚生労働省 2. 文部科学省 3. 総務省 4. 経済産業省

(3) 裁判所や裁判官には、憲法により他の機関から独立して公正な裁きを行うことが保障されています。この権利を侵害しているものの例として正しいものを次の1～4から1つ選び、番号で答えなさい。

1. 法務大臣が事件の重大性を判断し、裁判を担当する裁判所に重い刑を判決するように命令した。
2. 信頼を失うような行為をした裁判官が国会の設置した弾劾裁判所で裁かれた。
3. 内閣総理大臣がその職にふさわしいと判断した人物を最高裁判所の長官に指名した。
4. 国民による審査によって、その職にふさわしくないと判断された最高裁判所の裁判官が免職された。

問2 政治とは、国という単位だけではなく、様々な規模の人の集まりに使われることばです。身近な小さな集まりからでも、わたしたちがよりよく生活するための取り組みに関心をもちたいですね。地方自治は「民主主義の学校」といわれ、政治との関わり方を学ぶ身近な教材といえるでしょう。地方自治には住民が政治に直接的に参加できる機会もあります。地方自治における住民の政治参加について述べた文X・Yの正誤の組み合わせとして正しいものを下の1～4から1つ選び、番号で答えなさい。

X. 住民は地方公共団体が条例に基づいて行う住民投票において、その意思を示すことができる。

Y. 住民は有権者の50分の1の署名を集めると、議会の解散を請求することができる。

1. X：正 Y：正 2. X：正 Y：誤 3. X：誤 Y：正 4. X：誤 Y：誤

問3 憲法は国民の権利を明文化していますが、社会の変化により、憲法に明文化されていない事項が権利として求められる場合があります。それは一般に「新しい人権」と呼ばれます。「新しい人権」が争点となった訴訟の例として正しいものを次の1～4から1つ選び、番号で答えなさい。

1. 地方公共団体がお祭りの際に神社に公金を納めたことに対して、特定の宗教団体に政府が特権を与えたとして訴えを起こした。
2. 過去の政治活動を理由に企業から採用を取り消され、自己の思想と良心が侵害されたとして訴えを起こした。
3. 近隣空港の離着陸時の騒音に対して、快適に生活する環境を失ったとして訴えを起こした。
4. 薬局を開設する際の距離の制限を設ける法律に対し、職業を選択する自由が侵害されているとして訴えを起こした。

問4 憲法の改正は、それを悲願とする政治家がいるように現在においても議論の対象となっています。このような動きは、近年に始まったものではありません。1950年代はじめに日本が国際社会において主権を回復すると、1950年代半ばには、憲法の成立過程や日本の安全保障の視点で憲法第9条を改正しようとする政党の動きが高まっていました。この動きに対して、憲法改正に反対する政党もありました。図1は1955年の第27回衆議院議員総選挙の結果について報じた新聞記事です。この記事の見出しになっている「革新派 $\frac{1}{3}$ を突破」(二重枠内部)とは、選挙結果が憲法改正をめざす政党にどのような影響を与えることを意識して掲げられたものでしょうか。見出し内の「 $\frac{1}{3}$ 」という数字が憲法改正におけるどのような手続きに影響を与えるのか具体的に示した上で解答らんにご合うように説明を補いなさい。なお、見出し内の「革新派」は憲法改正に反対している議員であると考えること。

革新派 $\frac{1}{3}$ を突破

東京

首相、四度び全国最高

広川氏当選、加藤氏(落)つ

開票結果

党派	得票	議席	得票率	議席率
民主	184	22	101	61
自由	109	8	78	25
自左	89	17	68	4
右社	65	8	49	8
労農	4	0	3	1
共産	2	0	1	1
無所属	2	0	2	0
無所属	6	2	2	2
合計	461	55	304	102

議人 78

自由百十名前後に転落

民主 12,982,174 36.3

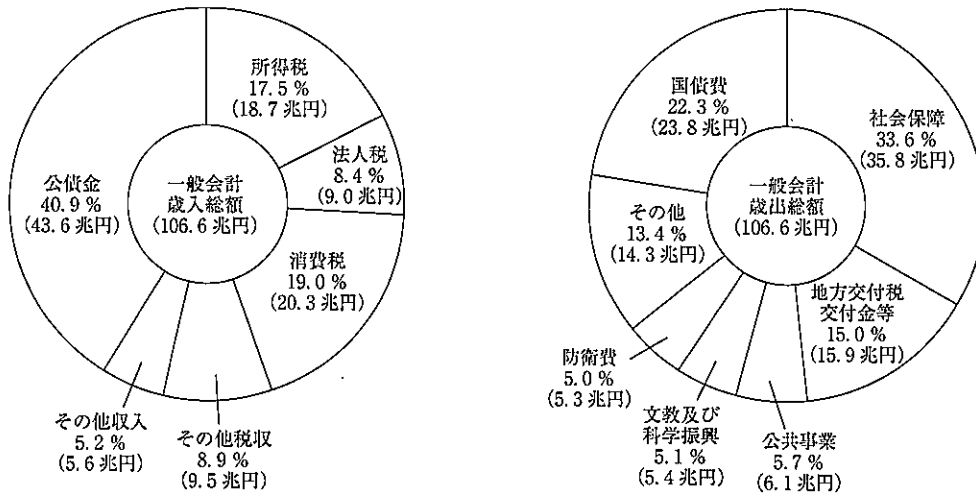
自由 9,481,568 26.9

自左 5,313,035 15.1

資料 『朝日新聞』1955年2月28日夕刊(朝日新聞データベース)より作成(二重枠は作問者によるもの)

図1

問5 日本の財政赤字は先進国の中でも深刻であると話題になることがあります。図2は財務省が公表している2021年度一般会計予算案の歳入と歳出の内訳です。図2から読み取ることができることとして正しいものを下の1～4から1つ選び、番号で答えなさい。



資料：『これからの日本のために財政を考える』財務省より作成。

図2

1. 歳入において、公債金による歳入の方が各種税による歳入の合計よりも割合が高い。
2. 歳出において、国債費の割合が最も高い。
3. この年度の予算案において、公債金以外の歳入のみで国債費以外の政策に関わる費用のすべてがまかなわれることになっている。
4. この年度の予算案において、国が返す金額よりも借りた金額の方が多い。

問6 日本という国は、核兵器による被爆国である一方で、核保有国であるアメリカと同盟関係にあるという特殊な立場にあるといえます。第二次世界大戦後、核兵器はその廃絶をめざす動きの中で、度々軍縮の対象となってきました。その一方で、核兵器を戦争への抑止力と考える国々との調和をとることが難しくなっています。2017年7月に国際連合で採択された核兵器禁止条約は、「あらゆる核兵器の使用から生ずる壊滅的で非人道的な結末を深く憂慮し、いかなる場合にも核兵器が再び使用されないことを保証する唯一の方法として核兵器を廃絶する必要がある」という理念をもっています。核兵器禁止条約は、2021年1月に発効を迎えています。この条約を発効までに批准（当事国が最終的な同意をすること）していた国として正しいものを次の1～4から1つ選び、番号で答えなさい。

1. アメリカ
2. 中国
3. 日本
4. ニュージーランド

問7 2015年に国際連合が将来の環境と開発についての目標である「SDGs」を採択しました。各国でこの目標を達成するために様々な取り組みが行われています。2020年10月、臨時国会の所信表明演説において、菅義偉内閣総理大臣は「2050年までに、温室効果ガスの排出を全体としてゼロにする、脱炭素社会の実現を目指す」ことを宣言しました。ここでの「排出を全体としてゼロ」とは、二酸化炭素をはじめとする温室効果ガスの排出量から、森林などによる吸収量を差し引いた、実質ゼロを意味しています。この温室効果ガスの実質ゼロをめざす考え方は何と呼ばれていますか。カタカナで答えなさい。

2022年度

入学試験問題

社 会

最初に、以下の注意事項をよく読んでください。

1. 問題冊子は監督者の指示があるまで開いてはいけません。
2. 監督者の指示により、最初に問題冊子の表紙と解答用紙の、指定されたらんに受験番号と氏名を記入してください。
3. 試験問題の内容に関する質問には応じません。それ以外の用事があるときは手をあげてください。
4. 受験中気分が悪くなったときは、監督者に申し出てください。
5. 解答用紙は持ち帰らないでください。

氏名		受験 番号	7		
----	--	----------	---	--	--

日本各地の「お城」は人気観光スポットになっています。その中でも、姫路城のように立派な天守を持つ城はとて有名です。「お城」と聞いた際に、多くの人は天守を思い浮かべるでしょう。しかし、天守は城の中の建造物の一つにしか過ぎないばかりか、日本の歴史の中では天守のない城の方がたくさん築かれてきました。日本の歴史の中ではどのような城が築かれ、その役割がどのように変化していったのでしょうか。

意外かもしれませんが、日本の城の歴史は弥生時代に始まるといわれます。この時代から現れる①環濠集落は周囲に濠をめぐらせ、内部の住民を外敵から守る構造になっており、集落全体が外敵から身を守る機能を持っていました。②古墳時代になると、環濠集落は消滅し、そのかわりに一定の地域を支配する力をもった豪族の屋敷だけが堀・柵によって囲まれ、身分の高い人たちだけを守る構造に変化しました。

日本で石垣を用いた本格的な築城が行われたのは、飛鳥時代でした。その背景には当時の朝鮮半島情勢が関係していました。③白村江の戦いに敗れた日本は、唐・新羅の攻撃に備えて九州北部から瀬戸内海にかけて朝鮮式山城を築きました。これらの山城は律令制度の整備が進んだ④奈良時代になると廃止されていきました。その一方、朝廷が支配領域を拡大していくなかで、⑤蝦夷と呼ばれた人々の住む地域に支配を広げるため、東北地方に城柵と呼ばれる軍事・行政拠点が設置されました。古代の城は対外的な防衛または征服拠点としての役割が強かったといえるでしょう。

⑥平安時代末期から武士が台頭し、戦乱の時代が訪れると多くの城が築かれるようになります。『平家物語』に登場する城は戦にともなって構えられた防衛施設であると考えられます。⑦この頃の武士は荘園などの管理人として、自分の領地に館を構えて暮らしていました。⑧南北朝時代になり戦が頻繁に起こるようになると、山の上に空堀や土塁をめぐらした山城を築きました。この時代の山城は、戦に応じて築かれた臨時の城としての性格がまだ強かったです。戦国時代になると、多種多様な城が築かれました。その中でも、戦国大名が本拠とした城は領国内を豊かにすることに重点が置かれました。城の周囲に家臣や商工業者たちを集め、領国の政治・経済・文化の中心として城下町を形成していきました。越前国（現在の福井県）の戦国大名朝倉氏の本拠である⑨一乗谷はその代表例です。

⑩安土・桃山時代になると、城が城主の権力を示す場としての性格を強めていきます。その象徴が天守の出現です。諸説ありますが、本格的な天守をもつ初めての城は、織田信長が築いた⑪安土城だとされています。その後、天下を統一した豊臣秀吉も壮大な天守をもつ大坂城を築きました。関ヶ原の戦いの後、⑫江戸幕府は全国の諸大名を各地の築城に動員しました。これらの過程の中で天守のある城が全国へと拡大していきました。1615年に豊臣氏を滅ぼした後、幕府は大名に対して本拠とする城以外のすべての城の破壊を命じました。翌年、大名を取りしめるために定められた【ア】により、城の新築は禁止され、修理も許可制となりました。泰平の世となり城の軍事的役割は薄れ、諸藩・幕府の政庁としての役割が強くなりました。その後、城が再び軍事的役割を果たすことになったのは幕末になってからでした。大政奉還後、⑬戊辰戦争が起こると、旧幕府軍と新政府軍の戦場となった城もありました。

明治維新後、城は存続の危機におちいりました。明治政府は⑭1873年に廃城令を発し、全国200以上の城が廃城処分とされました。一部の城は存続を認められましたが、管理者を失って放置されたまま、建造物の破壊が進行する状態におちいることが多かったです。そうした中で、犬山城や松本城などのように、旧藩士や城下町の一般市民の働きかけによって保存がなされた城もありました。

国家により城が「史跡」として保存の対象となったのは「史跡名勝天然記念物保存法」が制定された⑮大正時代からです。そして昭和初期には、1930年の名古屋城や⑯1931年の姫路城を初めとして、現存していた天守19棟は全て国宝に指定されました。明治初期に一度捨て去られようとした城でしたが、これにより城下町を象徴する存在としての価値が再び高まりました。その影響を受けて、近代的な技術で初めて再建されたのが大阪城天守閣です。その内部は当時の最新技術であった鉄筋コンクリート構造で再建されました。

1941年に太平洋戦争が開戦し、城は再び危機をむかえます。アメリカ軍の大都市に対する⑰空襲が本格化し、名古屋城・⑱和歌山城など計7城の天守が失われました。現在は12城の天守が現存し、1947年に定められた文化財保護法に基づいて保護されています。また、天守はありませんが、【イ】も沖縄戦の中で破壊されました。2019年に焼失した【イ】の正殿は戦後に再建されたものでした。

⑲戦後、日本経済は厳しい状況が続きましたが、1955年頃から経済が急成長し⑳高度経済成長期を迎えると、各地で市民からの寄付に支えられ、戦災やそれ以前にそう失った天守が再建されました。これらの天守は、戦前に再建された大阪城天守閣をモデルとして、内部は鉄筋コンクリート構造で外観のみが再現されました。2016年の熊本地震で損害を受けた熊本城天守閣もこの時期に再建された天守です。熊本城が被災した時に多くの熊本市民が悲しんだように、現存天守・再建された天守に関わらず、天守は地域のシンボルとして親しまれていることが分かります。

日本の歴史を通して多種多様な城が築かれてきましたが、その多くは破棄され、歴史の中で忘れ去られていきました。現存している城も建造時そのままの姿ではなく、いくたびの破壊や改修・修理を経て姿や役割を変えて現在に至っている姿なのです。

問1 下線部①の代表的な遺跡である吉野ヶ里遺跡から発掘されたものとして適切でないものを次の1～4から1つ選び、番号で答えなさい。

1. 銅鏡 2. 土偶 3. 木製の農具 4. 竪穴住居の跡

問2 下線部②について述べた文として適切でないものを次の1～4から1つ選び、番号で答えなさい。

1. 巨大な前方後円墳は近畿地方に多く分布し、大阪府にある大仙古墳はその中でも最大のものである。
 2. 前方後円墳に埋葬された人は、大王とその親族だけであった。
 3. 古墳から出土した鉄剣から漢字が用いられていたことが分かっている。
 4. 豪族は氏という血縁集団ごとに組織され、大王から身分や地位を表す姓を与えられた。

問3 下線部③が起きた時期を、右の年表中のア～エから1つ選び、記号で答えなさい。

	ア
604年	聖徳太子が憲法十七条を定めた
	イ
645年	蘇我入鹿が暗殺された
	ウ
672年	壬申の乱で大海人皇子が勝利した
	エ

問4 下線部④に起きた出来事について述べた文X・Yの正誤の組み合わせとして正しいものを下の1～4から1つ選び、番号で答えなさい。

X. 聖武天皇が大仏造立を命じた背景には、^{えきびょう}疫病の流行や戦乱があった。

Y. 都の平城京は唐の長安をモデルとして造られ、中央には南北に大きな道が走っていた。

1. X：正 Y：正 2. X：正 Y：誤 3. X：誤 Y：正 4. X：誤 Y：誤

問5 下線部⑤と呼ばれた人々を平定するために坂上田村麻呂を^{せいゐ}征夷大將軍に任命して東北地方に送った天皇を漢字で答えなさい。


問6 下線部⑥に関連して、資料1は鎌倉時代に成立した歴史書『愚管抄』の^{ぐかんしょう}一部を現代語訳したものです。空らん【 X 】に当てはまる元号を下の1～4から1つ選び、番号で答えなさい。

資料1

【 X 】元年七月二日、鳥羽法皇がお亡くなりになった後、争乱が起こり、それ以後は武者の世となってしまった。

1. ^{てんぎょう}天慶 2. 保元 3. 承久 4. 建武

問7 下線部⑦に関連して、次の資料2は鎌倉時代の^{そう}僧である^{いっぺん}一遍の^{えが}行いを描いた絵巻物の一部で、一遍が武士の館を訪ねた場面を描いたものです。これに関して以下の設問に答えなさい。



浜島書店『新詳日本史』より。

資料2

(1) 資料2について述べた文X・Yの正誤の組み合わせとして正しいものを下の1～4から1つ選び、番号で答えなさい。

X. 武士の館は城の中心部に建てられ、周囲は石垣に囲まれていた。

Y. 馬や狩りのための^{たか}鷹が飼われており、日頃から^{はげ}武芸に励んでいたと考えられる。

1. X：正 Y：正 2. X：正 Y：誤 3. X：誤 Y：正 4. X：誤 Y：誤

(2) 一遍について述べた文として正しいものを次の1～4から1つ選び、番号で答えなさい。

1. 念仏に合わせておどる踊り念仏を行った。
2. 座禅でさとりを開くことを重視し、曹洞宗を開いた。
3. 法華経が仏教の根本であり、南無妙法蓮華経と唱えれば救われると説いた。
4. 唐で仏教を学び、帰国後、高野山に金剛峯寺を開いた。

問8 下線部⑧に関連して、1392年に南北朝を合一した室町幕府の将軍を漢字で答えなさい。

問9 下線部⑨に関連して、戦国時代の一乗谷では華やかな京文化が開花し、「北ノ京」とまで称されました。その理由を解答らんにあうように説明しなさい。

問10 下線部⑩の城中のふすまや屏風などには華やかな色で障壁画が描かれた。織田信長や豊臣秀吉に仕え、障壁画を制作した絵師を次の1～4から1つ選び、番号で答えなさい。

1. 歌川広重
2. 運慶
3. 狩野永徳
4. 雪舟

問11 下線部⑪の位置として最も適当な場所を図1中の1～4から1つ選び、番号で答えなさい。

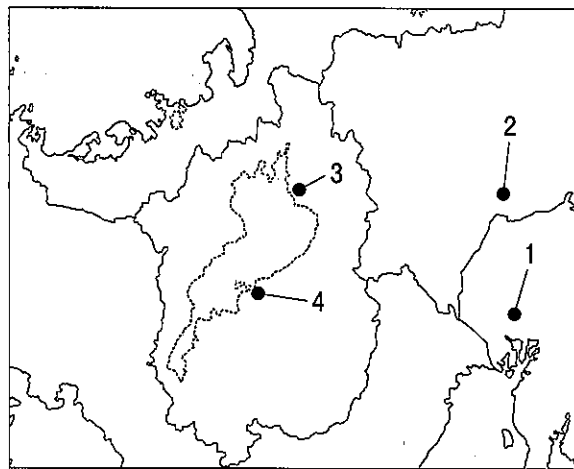


図1

問12 下線部⑫について述べた文X・Yの正誤の組み合わせとして正しいものを下の1～4から1つ選び、番号で答えなさい。

X. 島原の乱ののち、ポルトガル船の来航を禁止した。

Y. 天皇や公家にも守るべき決まりを定め、京都に六波羅探題を設置して朝廷を監視した。

1. X：正 Y：正
2. X：正 Y：誤
3. X：誤 Y：正
4. X：誤 Y：誤

問13 文中の空らん【ア】に当てはまる最も適当な語句を漢字で答えなさい。

問14 下線部⑬に当てはまる城として正しいものを次の1～4から1つ選び、番号で答えなさい。

1. 会津若松城
2. 姫路城
3. 広島城
4. 熊本城

問15 下線部⑭以前に起きた出来事として正しいものを次の1～4から1つ選び、番号で答えなさい。

1. 薩摩・長州などの武力を背景に廃藩置県が行われた。
2. 政府から追放された大隈重信が立憲改進黨を結成した。
3. 内閣制度が整備され、伊藤博文が初代の内閣総理大臣になった。
4. 士族の反乱としては最大の規模である西南戦争が起こった。

問16 下線部⑮に発表された資料として正しいものを次の1～4から1つ選び、番号で答えなさい（資料は現代語訳してある）。

1. 「天は人の上に人を造らず人の下に人を造らず」という。天が人を生み出した時には、万人はみな同じ地位にあり、生まれつきの身分差別はない。
2. デモクラシーという言葉は、一つは「国家の主権は法の原理上人民にある」という意味に、もう一つは、「国家の主権の活動の基本的な目標は政治上人民にあるべき」という意味に用いられる。第二の意味に用いられるとき、われわれはこれを民本主義と訳すのである。
3. 私たちは愛国の気持ちを止めることができず、一部の役人が政治を独占している状況を救う道を考えてみたが、多くの人民が議論するしか方法はない。そのためには、民撰議院を設立するしかない。
4. とうとう戦争になった。平和は乱れ、悪がまかり通る。日本政府はいう、その責任はロシア政府にあると。ロシア政府はいう、その責任は日本政府にあると。その通り、その責任は政府にあって私たち国民にはない。しかし、平和が乱れたことによって起こる災いは、すべて私たち国民にふりかかってくるのである。

問17 下線部⑯の年は満州事変が始まった年でもある。満州事変のきっかけとなった事件を次の1～4から1つ選び、番号で答えなさい。

1. 柳 条 湖 事件
2. 盧 溝 橋 事件
3. 二・二六事件
4. 義和団事件

問18 下線部⑰に関連して、空襲や火災などによる損害を少なくするため、都市部の住民を農村などへ避難させることを何というか、答えなさい。

問19 下線部⑱に関連して、紀伊（和歌山）藩主から将軍になった人物の政策として正しいものを次の1～4から1つ選び、番号で答えなさい。

1. 都市に出ていた農民を農村に帰し、米を備蓄させるなどして、農村の復興に務めた。
2. キリスト教に関係のない漢訳洋書の輸入を許可した。
3. 大坂・江戸周辺を幕府の領地にしようとする上知令をだした。
4. 長崎貿易を盛んにして、銅や俵物の輸出をすすめた。

問20 文中の空らん【 イ 】に当てはまる語句を漢字で答えなさい。

問21 下線部⑱に関連して、戦後10年間に起きた出来事について述べた文X～Zについて、古いものから年代順に正しく配列したものを下の1～6から1つ選び、番号で答えなさい。

X. 朝鮮戦争が勃発し、GHQの指示で警察予備隊が設置された。

Y. サンフランシスコ平和条約に調印し、独立を回復した。

Z. 財閥が解体され、独占禁止法が定められた。

1. X—Y—Z 2. X—Z—Y 3. Y—X—Z

4. Y—Z—X 5. Z—X—Y 6. Z—Y—X

問22 下線部㉔について述べた文として適切でないものを次の1～4から1つ選び、番号で答えなさい。

1. 東京オリンピックや日本万国博覧会が開催された。

2. 東海道新幹線や東名高速道路が開通するなど交通網が整えられた。

3. 佐藤栄作内閣は10年間で国民所得を2倍にすると宣言した。

4. 経済成長の一方、公害問題が起き、公害対策基本法が制定された。

問23 本文の内容にあてはまる記述として最も適切なものを次の1～4から1つ選び、番号で答えなさい。

1. 古代に築かれた城はいずれも石垣の技術は用いられていなかった。

2. 南北朝時代は戦が多く、防御を高めるために、天守をもった山城が多数築かれた。

3. 戦国時代から江戸時代にかけて城は政治・経済的な役割が重視されるようになっていった。

4. 明治政府は日本の伝統文化を守るため、城を文化財として積極的に保存しようとした。

3 次の文章を読んで、後の各問いに答えなさい。

1840年、彼は現在の埼玉県深谷市の藍玉（※注）農家に生まれた。父から学んだ藍の葉の見分け方の知識を活用し、早くからその商才が認められていた一方で、十代の時に代官から受けた屈辱的な言動により、幕府による政治に不信を持ち①尊皇攘夷の思想を抱き始める。

1862年2月、②当時大流行していた麻疹により生後6か月の長男を亡くした。その後、尊皇攘夷を唱える同志が③投獄されたことに端を発し倒幕の企てが明るみになることを恐れ、知人の助言を受けて一橋家に仕官することとなり、25歳で武士となった。

領内の④財政改革に着手し功績をあげたことで信頼を勝ち取り、1867年、15代将軍徳川慶喜の弟である徳川昭武率いるパリ万博に向かう使節団の一員として同行することとなり、フランス、オランダ、イタリア、イギリスなどを歴訪する。この頃には多くの人との出会いにより尊皇攘夷の思想は消えていた。彼の著書『航西日記』によると、途中、エジプトで【 X 】運河の建設現場に遭遇し、その工事主体を「会社」が担っていると知り感銘を受けた。この際、彼は「会社」とは公益の事業を行うものであると認識し、帰国後、この考えに基づき実行に移していくこととなる。

フランスに1年半滞在し、近代資本主義社会の姿を目の当たりにするとともに日本との圧倒的な国力の差を痛感する一方、銀行の仕組みや金融の知識を習得し、日本に⑤近代国家の基盤、経済の仕組み、科学技術の導入を決意する。

帰国後、徳川慶喜の隠棲の地であった静岡にて現在の株式会社にあたる組織を立ち上げ静岡藩の財政に貢献した。その功績およびフランスでの滞在経験が評価され大隈重信の説得を受け民部省（後に大蔵省へ統合）での勤務を開始する。郵便制度創設、貨幣制度の改正、⑥廃藩置県、鉄道敷設、富岡製糸場建設、国立銀行条例制定、⑦地租改正の実施など新たな国家の基盤づくりに携わった。しかし、大久保利通らの財政要請に反発し大蔵省を辞める。

日本の近代化には、⑧法律等の整備もさることながら産業発展が不可欠との思いから34歳で活躍の場を実業界へと移す。1873年、日本初の民間銀行である第一国立銀行（現みずほ銀行）を創設し、経営の最高責任者である総監役に就任した。以後、500社を超える銀行及び企業の創立や運営に携わった。また、日本赤十字社や聖路加国際病院などの社会福祉・医療事業の推進、さらには一橋大学や早稲田大学など学術・教育の振興にも多大な貢献をし、1931年に92歳でその生涯を閉じるまで関わった社会公共事業は約600を数える。この際、自ら資金を出すのみならず社会の成功者に対し寄付を呼びかけていた。これは成功者が成功したのは社会のおかげであるから社会に恩返しすべきであるとの考えからである。彼は実業の世界に『論語』の精神を植え付けたいと考えており、自己本位の儲け主義を否定した。

近年、市場主義経済の影響による経済格差、貧困が大きな問題となっており、さらには企業が利益至上主義に走ることによって不祥事などが頻発し社会的責任が問われる社会となってきている。

彼は、「営利の追求や富の蓄えも道義に合致するものでなければならない」と考えていたが、現代社会は彼の考えを今一度捉えなおす時期を迎えているのではないか。ゆえに今、新紙幣の図柄や大河ドラマの題材などとして改めて脚光を浴びているのではないだろうか。

※注：藍玉とは、運搬を容易にするために藍の葉を寝かせ発酵・熟成させたうえで丸く固めたもの。

問1 下線部①に関連して、当時と現在では天皇の立場も変化しています。日本国憲法において規定されている天皇の行う国事行為にあてはまらないものを次の1～4から1つ選び、番号で答えなさい。なお、すべて正しい場合には「5」と答えなさい。

1. 国会を召集する
2. 最高裁判所長官を任命する
3. 法律や条約を公布する
4. 衆議院を解散する

問2 下線部②に関連して、2021年2月に新型コロナウイルスの発生源を調べる国際調査団が中国湖北省武漢市での現地調査を実施しましたが、この国際調査団の組織・派遣を主導した国際連合の専門機関の略称として正しいものを次の1～4から1つ選び、番号で答えなさい。なお、選択肢に適切なものがない場合には、解答らん(りやくしょう)に直接略称を記入しなさい。

1. IMF
2. WTO
3. ILO
4. UNCTAD

問3 下線部③に関連して、投獄とは現代においては人権を制限する行為です。一方で、現在の日本国憲法には明文化されていないものの、社会の変化に伴って新たに主張されるようになった人権もあります。そのような人権として正しいものを次の1～4から1つ選び、番号で答えなさい。なお、選択肢に適切なものがない場合には、「5」と答えなさい。

1. 請求権
2. 平等権
3. 生存権
4. 自己決定権

問4 下線部④に関連して、日本の国家予算は年々増額傾向にありますが、2021年度の当初予算案において歳出の項目で最も金額が多いものを次の1～4から1つ選び、番号で答えなさい。

1. 公共事業関係費
2. 国債費
3. 社会保障関係費
4. 防衛関係費

問5 文中の空らん【 X 】は海上輸送の要衝ですが、ここでは2021年3月に愛媛県の会社が所有する大型コンテナ船が座礁し他の船舶が通行できなくなる事故が発生したことで、世界的な物流の停滞が起きました。空らん【 X 】に入る名称を答えなさい。

問6 下線部⑤に関連して、近代国家の基盤の1つとして官僚制度及び行政機関が存在しますが、昨今の新型コロナウイルスに対するワクチン接種を管轄する省として正しいものを次の1～4から1つ選び、番号で答えなさい。なお、選択肢に適切なものがない場合には、解答らん(かんりょう)に直接省の名称を記入しなさい。

1. 経済産業省
2. 環境省
3. 厚生労働省
4. 防衛省

問7 下線部⑥に関連して、日本国憲法制定に伴い地方自治についての規定も設けられました。地方自治について述べた文X・Yの正誤の組み合わせとして正しいものを下の1～4から1つ選び、番号で答えなさい。

X. 条例の制定は有権者の50分の1以上の署名で首長に請求することができる。

Y. 横浜市長選挙には30歳以上から立候補することができる。

1. X：正 Y：正 2. X：正 Y：誤 3. X：誤 Y：正 4. X：誤 Y：誤

問8 下線部⑦に関連して、現在、税は金納に統一されており、国税と地方税に大別されていますが、国税にあてはまらないものを次の1～4から1つ選び、番号で答えなさい。なお、すべてあてはまる場合には「5」と答えなさい。

1. 固定資産税 2. 相続税 3. 法人税 4. 所得税

問9 下線部⑧に関連して、現在の日本では立法権は国会が有していますが、国会が行う憲法改正の発議の要件として正しいものを次の1～4から1つ選び、番号で答えなさい。

1. 衆議院の総議員の過半数の賛成 2. 衆議院の総議員の3分の2以上の賛成
3. 各議院の総議員の過半数の賛成 4. 各議院の総議員の3分の2以上の賛成

問10 本文中の題材となっている「彼」は、2024年度上半期に実施される予定の新紙幣発行において新1万円札の図柄に採用される人物です。「彼」として最も適切なものを次の1～4から1つ選び、番号で答えなさい。

1. 北里柴三郎 2. 渋沢栄一 3. 伊藤博文 4. 板垣退助