

2026年度

入学試験問題

社 会

最初に、以下の注意事項をよく読んでください。

1. 問題冊子は監督者の指示があるまで開いてはいけません。
2. 監督者の指示により、最初に問題冊子の表紙と解答用紙の、指定されたらんに受験番号と氏名を記入してください。
3. 試験問題の内容に関する質問には応じません。それ以外の用事があるときは手をあげてください。
4. 受験中気分が悪くなったときは、監督者に申し出てください。
5. 解答用紙は持ち帰らないでください。

氏名		受験 番号	5			
----	--	----------	---	--	--	--

1 次の文章を読み、後の各問いについて、**解答番号 1～16** に解答しなさい。

2021 年後半から徐々に始まった物価の高騰は 2024 年末には少し落ち着きを見せたものの、2025 年も変わらず高い水準で推移しました。この物価の高騰は、2022 年 2 月にロシアが穀倉地帯のウクライナに侵攻したことで、①小麦や②トウモロコシの価格が上昇したことや、ロシアが世界有数の産油国であることから③原油の価格が上昇したことなどが影響しています。また、輸入品の価格が上がる円安の進行もその一因です。円安ではドルなどの他通貨に対する円の価値が低くなるため、輸入品の価格が上がります。日本の 2023 年度の食料自給率はカロリーベースで【 A 】%と先進国の中では低く、多くの食料品を輸入に頼っているため、輸入品の価格の上昇が物価の高騰につながりました。

また、国内においても 2024、25 年ともに夏が猛暑で④農産物の価格が高騰しました。その中でも特に、2024 年の夏ごろからは「令和の米騒動」と呼ばれる、米価格の高騰と品薄状態が発生しました。その理由として、農林水産省は 2023 年夏の猛暑が影響して、23 年産の米の品質が低下した結果「米の歩留まり（精白米にする際に目減りする度合い）」が落ち、精白米にするためにいつもよりも多くの玄米が必要だったことや、インバウンドの増加によって寿司をはじめとした日本食の人気により、日本で米を食べる外国人が増えたことが原因にあるとしています。ただ 1970 年代以降、日本政府によって米の減反政策が続けられてきたことや、高度経済成長期以降、⑤工業発展の中で⑥第 1 次産業就業人口が低下し農業の従事者数が減っていること、そして農業従事者の⑦高齢化が進んできたことも背景にあるといえます。これにより主食である米の価格が上昇し、2025 年 3 月には政府が発表するスーパーにおける精米 5 キロの販売価格は 4000 円を超えました。2025 年 2 月に政府は備蓄米の放出を決定し、それが 6 月ごろから市場に流通したことで、米の価格も一時的に下落しましたが、物価の高騰は解決の糸口が見えていません。

問 1 文中の空らん【 A 】にあてはまる数値として最も適当なものを次の 1～4 から 1 つ選び、**解答番号 1** に番号で答えなさい。

1. 18 2. 28 3. 38 4. 48

問 2 下線部①に関連して、ミドリさんは社会科の授業で小麦について調べて、次のようなレポートにまとめました。ミドリさんの作成したレポートを読み、後の各問いに答えなさい。

○日本は国内で消費される小麦のうち約 85 % を輸入に頼っている。

○日本は主にアメリカ合衆国、カナダ、オーストラリアから小麦を輸入している。

○国内で小麦の収穫量が多いのは北海道、福岡県、佐賀県である。

○麦^{注1}の輸入量が多い港湾上位 5 港は、右の表のような結果であった。

順位	港湾名	取扱量 (t)
1	神戸港 (兵庫県)	10,382
2	博多港 (福岡県)	9,412
3	千葉港 (千葉県)	7,500
4	堺泉北港 (大阪府)	3,686
5	清水港 (静岡県)	3,314

注 1) 麦には大麦、裸麦、小麦、えん麦、ライ麦、精麦が含まれる。

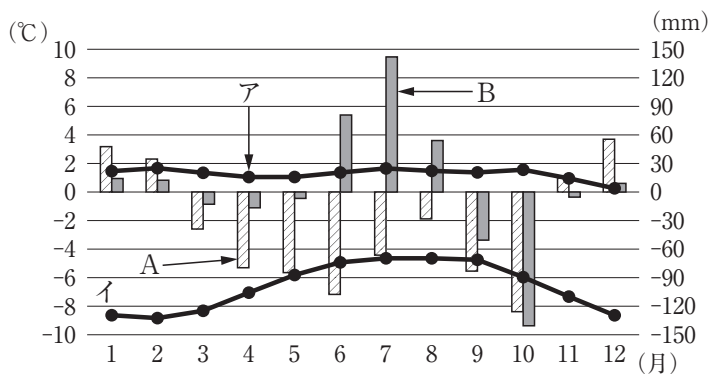
国土交通省港湾関係統計データ「令和 6 年度 バルク貨物流動調査結果」より作成。

- (1) ミドリさんは輸入先の国々がどの時期に小麦を生産しているのか気になり、小麦の主な生産国の生産時期を図1にまとめてみました。図中の1～4にはアメリカ合衆国、インド、オーストラリア、カナダのいずれかの国があてはまります。オーストラリアにあてはまるものを図中の1～4から1つ選び、**解答番号2**に番号で答えなさい。



図1 帝国書院『新詳地理資料 COMPLETE 2025』より作成。

- (2) ミドリさんは北海道と福岡の気候に興味を持ち、それぞれの都市の雨温図を東京と比較しまとめました。次の図2は北海道札幌市と福岡県福岡市の気温と降水量について、東京を基準としたときの差を表したもので、図中のアとイは両都市の気温、AとBは両都市の降水量を示しています。北海道札幌市の気温と降水量の組み合わせとして正しいものを下の1～4から1つ選び、**解答番号3**に番号で答えなさい。



	1	2	3	4
気温	ア	ア	イ	イ
降水量	A	B	A	B

図2 『日本国勢図会 2025/26』より作成。

- (3) ミドリさんは麦の輸入量が多い港湾が西日本に多いことに注目して、パンの年間購入金額(2022年～2024年平均)が高い都道府県庁所在市と政令指定都市を調べ、右のようにまとめました。すると、やはり麦の輸入量の多い港湾、またはその港湾の一部が位置する近畿地方の政令指定都市が購入金額でも上位でした。右の表1中のア・イには近畿地方の政令指定都市が入りますが、ミドリさんのレポートを参考にア・イの都市名を は**解答番号4**に、 は**解答番号5**にそれぞれ答えなさい。

表1

順位	都市名	購入金額(円)
1	ア	40,564
2	イ	39,154
3	大津市	38,898
4	京都市	38,295
5	広島市	38,134

総務省統計局「家計調査(二人以上の世帯)」より作成。

- 問3 下線部②について、トウモロコシの多くは家畜のえさに使われます。次の表2中のア～エは肉牛・豚・鶏(卵用)・若鶏(肉用)の家畜の頭数^{注2}(万頭、2024年2月現在)の上位5道県のいずれかを表したものです。豚と鶏(卵用)の組み合わせとして正しいものを下の1～8から1つ選び、**解答番号6**に番号で答えなさい。

表 2

	ア		イ		ウ		エ	
	都道府県名	頭数	都道府県名	頭数	都道府県名	頭数	都道府県名	頭数
1 位	北海道	55.9	鹿児島県	3200.3	千葉県	1412.9	鹿児島県	120.0
2 位	鹿児島県	36.3	宮崎県	2815.5	茨城県	1210.9	北海道	75.2
3 位	宮崎県	25.8	岩手県	2360.4	鹿児島県	1019.6	宮崎県	72.2
4 位	熊本県	13.4	青森県	763.9	岡山県	1003.6	群馬県	61.1
5 位	長崎県	9.4	北海道	553.1	群馬県	960.2	千葉県	58.1

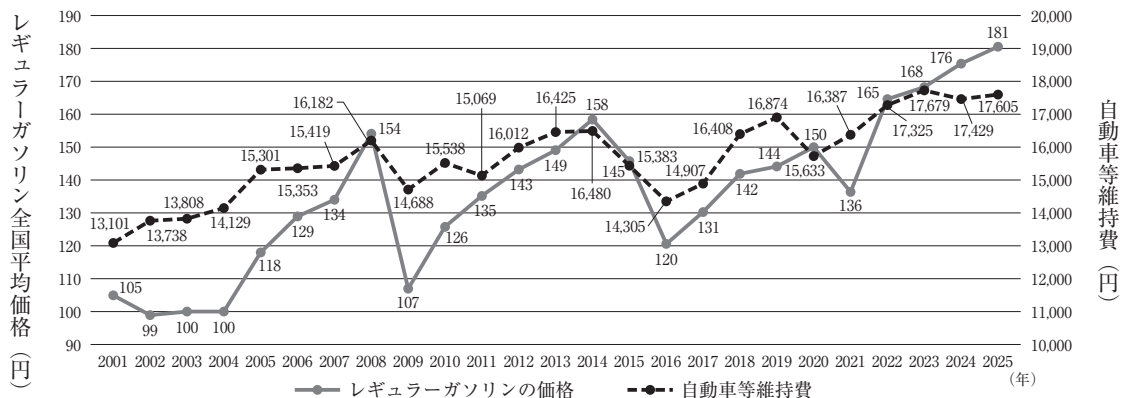
「令和 6 年畜産統計」より作成。

注 2) 鶏(卵用)・若鶏(肉用)の単位は頭数でなく羽数ですが、問題の都合上、頭数で統一しています。

	1	2	3	4	5	6	7	8
豚	ア	ア	イ	イ	ウ	ウ	エ	エ
鶏(卵用)	イ	エ	ア	ウ	イ	エ	ア	ウ

問 4 下線部③に関連した次の各問いに答えなさい。

- (1) 原油からはガソリンが精製されますが、次の図 3 は 2001 年から 2025 年までの毎年 1 月初めのレギュラーガソリン全国平均価格 (ℓ/円) と、2001 年から 2025 年における二人以上世帯の家計支出のうち自動車等維持費^{注 3}の推移 (月平均, 2025 年のみ 1 月の数値) を示したものです。この図から読み取れることを説明した文 X・Y の正誤の組み合わせとして正しいものを下の 1～4 から 1 つ選び、解答番号 7 に番号で答えなさい。



注 3) 自動車等維持費とは、車を所有し、安全かつ快適に使用し続けるために発生する費用で、主に自動車にかかる税金や保険料、駐車場代などのことです。

資源エネルギー庁 石油製品価格調査のうち「給油所小売価格調査」及び総務省家計調査 (二人以上の世帯) より作成。

図 3

- X. レギュラーガソリンの価格が上がっても、それに合わせて自動車等維持費が必ず上がるわけではないが、自動車等維持費の価格が下がった年には必ずレギュラーガソリンの価格も下がっている。
- Y. レギュラーガソリン及び自動車等維持費の価格を一年ごとに見ると 2008 年から 2009 年にかけての落ち幅がもっとも大きい^{しんさい}が、これは東日本大震災によって国内の経済活動が停滞し、ガソリンの需要が減ったためである。

1. X : 正 Y : 正 2. X : 正 Y : 誤 3. X : 誤 Y : 正 4. X : 誤 Y : 誤

(2) ガソリンは主に自動車の燃料に使われますが、次の表3は秋田県、群馬県、埼玉県、静岡県の製造業の事業所数（2022年6月1日現在）、製造品出荷額（2022年）、乗用車の100人あたり保有台数（2023年度末）を表したものです。群馬県と静岡県にあてはまるものを表中の1～4からそれぞれ選び、群馬県は**解答番号8**に、静岡県は**解答番号9**にそれぞれ番号で答えなさい。

表3

	製造業の事業所数	製造品出荷額(億円)	乗用車の100人あたり保有台数(台)
1	9,531	95,624	73.0
2	3,068	15,761	63.5
3	23,106	147,998	44.3
4	17,262	190,291	62.7

【データでみる県勢2025】より作成。

(3) 2025年の7月には日本企業がカナダで日本向けLNGの出荷を始めました。LNGは日本における火力発電の主要な燃料となっており原油と同様に重要な資源です。また、LNGは石炭や石油に比べてCO₂排出量が少ないという利点があると言われていますが、LNGとは何の略称のことか、**解答番号10**に**6字**で答えなさい。

問5 下線部④について、2024年の終わりから2025年の春先にかけてはキャベツやトマトの価格が高騰しました。次の図4中のア～ウはキャベツ、トマト、レタスの収穫量（2023年）の多い都道府県を表したものです。作物と記号の組み合わせとして正しいものを下の1～6から1つ選び、**解答番号11**に番号で答えなさい。

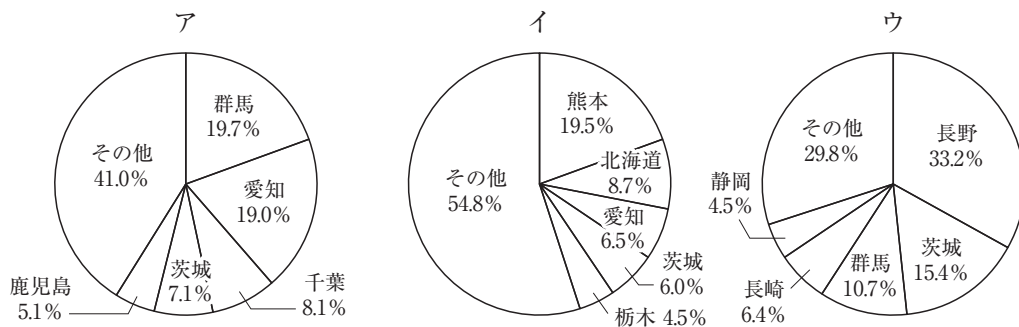


図4

【日本のすがた2025】より作成。

	1	2	3	4	5	6
キャベツ	ア	ア	イ	イ	ウ	ウ
トマト	イ	ウ	ア	ウ	ア	イ
レタス	ウ	イ	ウ	ア	イ	ア

問6 下線部⑤に関連して、次の表4中の1～4は関東内陸工業地域、京浜工業地帯、中京工業地帯、北九州工業地域が位置する都県の事業所数（2023年）・従業者数（2023年）・製造品出荷額（2022年）のそれぞれの全国に占める割合を表したものです。中京工業地帯にあてはまるものを表中の1～4から1つ選び、**解答番号12**に番号で答えなさい。

表 4 (％)

	事業所数	従業者数	製造品出荷額
1	2.7	3.0	2.9
2	11.3	8.0	7.3
3	12.9	16.3	19.6
4	10.7	10.5	9.3

「2023年経済構造実態調査」より作成。

問7 下線部⑥に関連して、次の図5のア～ウは日本の第1次産業から第3次産業までの産業別就業人口(2022年10月1日現在)のうち、全国の平均よりも就業人口の割合が高い都道府県に着色したものです。図中ア～ウと第1次産業から第3次産業までの産業別就業人口の組み合わせとして正しいものを下の1～6から1つ選び、解答番号13に番号で答えなさい。

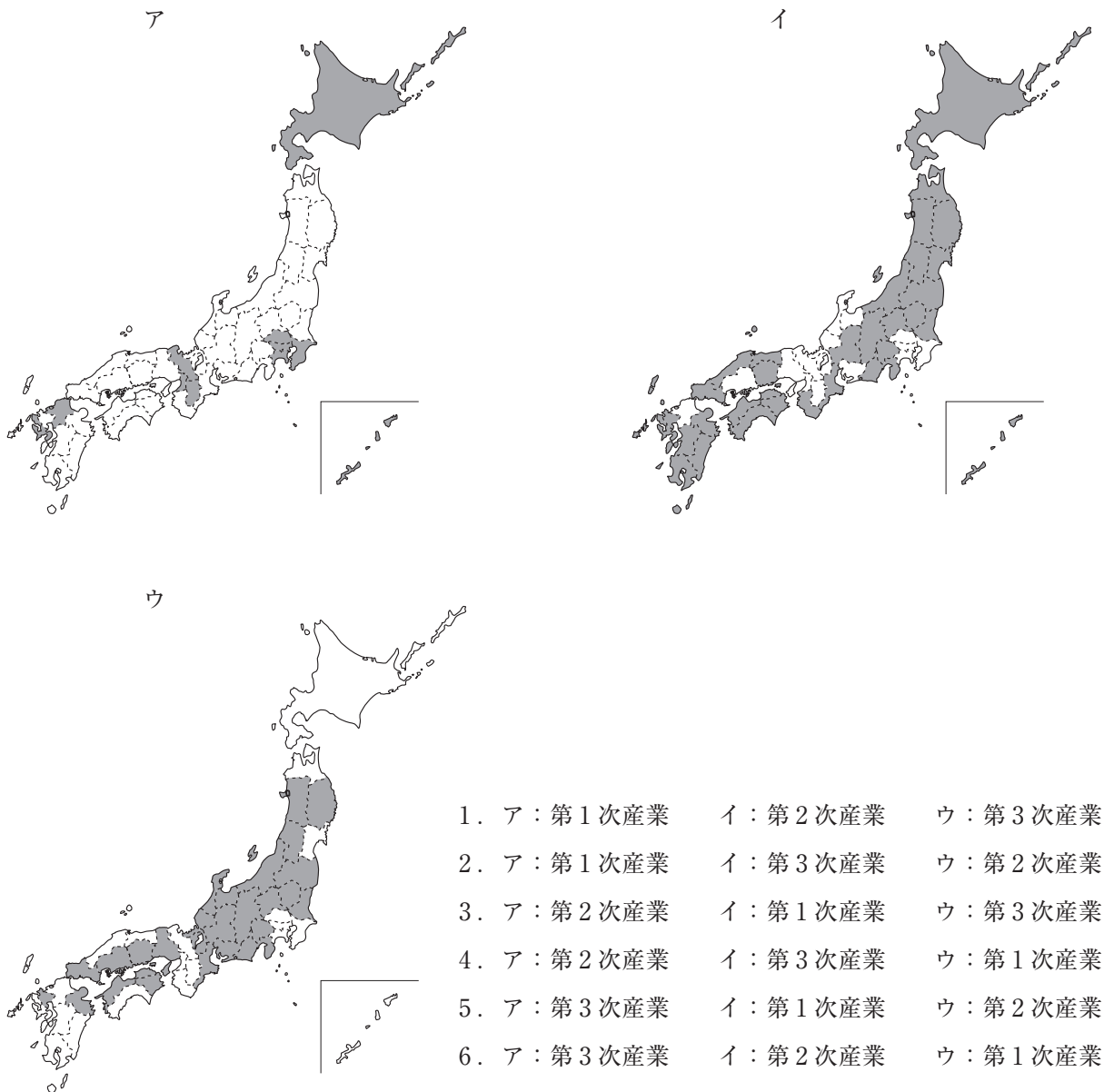


図5 『データでみる県勢2025』より作成。

問8 下線部⑦に関連して、次の表5中のA～Dは東京都、滋賀県、大阪府、高知県の合計特殊出生率（2023年）と65歳以上人口割合（2023年10月1日現在）、1人あたり医療費（2021年度）を表したものです。また、下の文はその表について考察したものです。これらに関する後の各問いに答えなさい。

表5

	合計特殊出生率	65歳以上人口の割合(%)	1人あたり医療費(千円)
A	1.38	27.0	321.7
B	0.99	22.8	329.4
C	1.19	27.7	391.8
D	1.30	36.3	471.3
全国	1.20	29.1	358.8

『データでみる県勢 2025』より作成。

表中の合計特殊出生率を見るとBが最も低く、またBは65歳以上人口の割合も最も低いことから、【ア】している（あ）であると分かる。次に、表中のDは65歳以上人口の割合が最も高い。また、それに加えてDは1人あたり医療費も高くなっていることから、【イ】している（い）であると分かる。最後にAとCを比較すると、65歳以上人口の割合は同程度であるが合計特殊出生率がAの方が高い。これはAがCの であり、【ウ】しているからである。よって、Aが（う）であり、Cが（え）である。

(1) 文中の空らん【ア】～【ウ】にあてはまる語句の組み合わせとして正しいものを次の1～4から1つ選び、解答番号14に番号で答えなさい。

	ア	イ	ウ
1	子育て世帯が流入	若者や単身者が流入	若者や単身者が流出
2	若者や単身者が流入	若者や単身者が流出	子育て世帯が流入
3	子育て世帯が流出	子育て世帯が流入	若者や単身者が流出
4	若者や単身者が流出	子育て世帯が流出	子育て世帯が流入

(2) 文中の空らん にあてはまる語句を解答番号15にカタカナ6字で答えなさい。

(3) 文中の空らん（あ）～（え）にあてはまる都府県の組み合わせとして正しいものを次の1～8から1つ選び、解答番号16に番号で答えなさい。

	1	2	3	4	5	6	7	8
あ	大阪府	大阪府	滋賀県	滋賀県	東京都	東京都	高知県	高知県
い	滋賀県	高知県	大阪府	高知県	滋賀県	高知県	東京都	滋賀県
う	東京都	滋賀県	東京都	大阪府	高知県	滋賀県	大阪府	東京都
え	高知県	東京都	高知県	東京都	大阪府	大阪府	滋賀県	大阪府

2 探究学習で米田さんと小林さんは東京国立博物館に行くことになりました。2人の事前学習での会話を読み、後の各問いについて、**解答番号 17～37**に解答しなさい。

米田：「①東京国立博物館は1872年創立の日本で一番古い博物館なんだって！」

小林：「150年以上も歴史があるんだね。創立された時は②明治時代かな。」

米田：「それに6つも展示館があって規模も日本最大級なんだよ。」

小林：「6つもあるの！？すごい大きいね。③博物館ができる前は何かあったんだろう。」

米田：「確かにそうだね。④博物館の歴史に行く前に調べておこうよ。」

小林：「歴史もいいけど、まずは何が博物館で見られるか調べようよ。」

米田：「じゃあ、歴史は後で調べることにして、どんなものが見られるか調べよう。」

小林：「⑤博物館の収蔵品は約12万件あって、そのうち国宝89件、重要文化財653件もあるんだって。」

米田：「すごい！全部見られるのかな？」

小林：「さすがに全部は展示していないね。でも展示替えの作業は1年で約400回行われているんだって。」

米田：「そんなに入れ替えをしているんだ！じゃあ、何回行っても楽しめそうだね。そういえば、それぞれの展示館ではどのようなものが見られるんだろう？」

小林：「平成館1階の考古展示室では、⑥考古資料で旧石器時代から江戸時代までの日本の歴史をたどることが出来て、教科書にもものっているような資料があるみたい！」

米田：「本館は日本ギャラリーになっていて、2階では⑦縄文時代から江戸時代まで、本物の作品で日本の美術の流れを学ぶことができるようになってるね。」

小林：「2つ合わせれば、日本文化の歴史を詳しく調べそうだね。」

米田：「⑧法隆寺宝物館も行ってみたいな。法隆寺から献納された貴重な宝物が見られるんだって！」

小林：「東洋館も見てみたいけど、今回は時間的に難しそうだから、本館・平成館・法隆寺宝物館を見学することにしようか。」

米田：「うん、そうしよう。じゃあ当日の待ち合わせ場所と時間を決めよう。」

小林：「せっかくだし、上野公園の有名な【 A 】像に来週の日曜日午前10時集合でどうかな？」

米田：「いいね！博物館以外にも不忍池とか⑨上野東照宮とかも行けたらいいな。」

小林：「欲張りだなあ、博物館を見学した後、元気だったら行こうか。」

問1 下線部①に関連して、東京国立博物館は湯島聖堂で日本最初の博覧会が開かれた年を創立年としています。儒教を重んじた政治を行い、湯島聖堂を建てた江戸幕府の将軍を次の1～4から1つ選び、**解答番号 17**に番号で答えなさい。

1. 徳川家光 2. 徳川綱吉 3. 徳川吉宗 4. 徳川家慶

問2 下線部②に起きた出来事X～Zを古いものから年代順に正しく配列したものを下の1～6から1つ選び、**解答番号 18**に番号で答えなさい。

- X. 大日本帝国憲法が公布された。
Y. イギリスとの条約改正交渉で治外法権をなくす条約の締結に成功した。
Z. 日清戦争の賠償金の一部を使って八幡製鉄所が操業を開始した。

1. X—Y—Z 2. X—Z—Y 3. Y—X—Z
 4. Y—Z—X 5. Z—X—Y 6. Z—Y—X

問3 下線部③について、小林さんは東京国立博物館ができる前の上野について調べてみました。次の資料1～4から読み取れる、上野の歴史について述べた文X・Yの正誤の組み合わせとして正しいものを下の1～4から1つ選び、**解答番号 19**に番号で答えなさい。

資料1：幕末に描かれた江戸の地図



東京都立図書館所蔵『東都下谷絵図』を加工して作成。

資料2：現代の上野公園周辺の航空写真



国土地理院地図・空中写真閲覧サービス (<https://service.gsi.go.jp/map-photos/app/>) より空中写真(整理番号 CKT20191-C30-46)を加工して作成。

資料3：『福翁自伝』(福沢諭吉の自伝)より

明治元(1868)年の五月、上野に大きな戦争が始まって、その前後は江戸市中の芝居も寄席も見世物も料理茶屋もみんな休んでしまって、何が何やら分らないほどの混乱だったが、私はその戦争の日も塾の仕事をやめない。上野ではどんどん鉄砲をうっているけれども上野と新銭座とは二里(約8km)も離れていて、鉄砲玉が飛んで来る心配はないというので、あの時私は英語の本で経済の授業をしていました。

資料4：明治六年に出された政府の法令の一部

東京・京都・大阪の三府をはじめ、人々が多く住んでいる地域において、古来から風景のよい名所や人の多く集る盛り場(例えば、東京では金竜山浅草寺や東叡山寛永寺の境内、京都では八坂神社の境内や嵐山など)を、今後はすべての人が楽しめる場所として、公園に定めることが適当である。よって、府県はこうした土地を選定し、その景観や状況を詳しく調査し、図面をそえて大蔵省に申請するように。

X. 東京国立博物館があった場所は、江戸時代は大名屋敷が立ち並んでいた。

Y. 戊辰戦争の際に上野は戦場となり、明治時代に付近の住民の意見により公園として整備された。

1. X：正 Y：正 2. X：正 Y：誤 3. X：誤 Y：正 4. X：誤 Y：誤

問4 下線部④に関連する後の各問いに答えなさい。

- (1) 東京国立博物館の歴史に関する出来事X～Zを古いものから年代順に正しく配列したものを下の1～6から1つ選び、**解答番号 20**に番号で答えなさい。

X. 関東大震災で1881年に完成した旧本館が損壊し、翌年まで休館した。

Y. 空襲による被害を避けるために美術品の疎開が行われた。

Z. 皇太子時代の天正天皇の結婚を祝って表慶館が作られた。

1. X-Y-Z 2. X-Z-Y 3. Y-X-Z
4. Y-Z-X 5. Z-X-Y 6. Z-Y-X

(2) 1974年に「モナ・リザ展」が開かれ、来場者150万人を超える人気を博しました。その実現の背景には当時の田中角栄首相の尽力がありました。田中内閣の時の出来事を次の1～4から1つ選び、解答番号21に番号で答えなさい。

1. 日米安全保障条約の改定に反対する安保闘争が起こった。
2. 株や土地の価格が急上昇し、バブル経済となった。
3. 東京オリンピックが開催された。
4. 日中共同声明が発表され、日本と中華人民共和国との国交が正常化された。

問5 下線部⑤に関連して、米田さんは「CoLBase（国立文化財機構所蔵品統合検索システム）」を用いて東京国立博物館が所蔵する国宝や重要文化財について調べました。それらに関して以下の設問に答えなさい。

(1) 国宝「平治物語絵巻 六波羅行幸巻」は平治の乱を描いた合戦絵巻物です。平治の乱が起きた時期として最も適当な時期を下の年表中の空らん1～4から1つ選び、解答番号22に番号で答えなさい。

年	出来事
935	平将門の乱が起こる 1
1051	前九年の役が起こる 2
1167	平清盛が太政大臣となる 3
1192	源頼朝が征夷大將軍に就任する 4
1232	御成敗式目が定められる

資料5




出典：CoLBase (<https://colbase.nich.go.jp/>)

(2) 上の資料5は、国宝「秋冬山水図」です。この作者で、日本的な水墨画様式を確立した人物を解答番号23に漢字で答えなさい。

(3) 次の資料6・7は鎌倉時代に描かれた、武蔵国の武士である吉見二郎と男衾三郎兄弟とその家族を主人公とした絵巻物、重要文化財「男衾三郎絵巻」の一部である。次の資料から読み取れる鎌倉時代の武士の生活について述べた文X・Yの正誤の組み合わせとして正しいものを下の1～4から1つ選び、解答番号24に番号で答えなさい。

資料6：吉見二郎の館の様子を描いた場面



資料7：男衾三郎の家来たちを描いた場面



「ColBase」(https://colbase.nich.go.jp/collection_item_images/tnm/A-11889?locale=ja) をもとに作成。

X. 貴族の文化を取り入れて生活をしている地方の武士もいた。

Y. 騎射^{きしや}の技術が重んじられ、武芸にはげみ、戦いに備えていた。

1. X：正 Y：正 2. X：正 Y：誤 3. X：誤 Y：正 4. X：誤 Y：誤

(4) 足利義政を描いたと伝わる肖像画^{しょうぞう}が重要文化財に登録されていました。足利義政について述べた文

X・Yの正誤の組み合わせとして正しいものを下の1～4から1つ選び、解答番号25に番号で答えなさい。

X. 守護大名の細川勝元と山名持豊との争いが足利義政のあとつぎをめぐる対立と結びつき、京都で戦乱が起きた。

Y. 足利義政が保護した観阿弥^{かんあみ}・世阿弥^{ぜあみ}は、芸術性の高い能を大成した。

1. X：正 Y：正 2. X：正 Y：誤 3. X：誤 Y：正 4. X：誤 Y：誤

問6 下線部⑥に関連して以下の設問に答えなさい。

(1) 「自然環境の変化と定住生活—土器の出現とその変遷」というテーマで展示されていました。日本で土器が出現し、人々が定住するようになった時代の生活について述べた文として誤っているものを次の1～4から1つ選び、解答番号26に番号で答えなさい。

1. 森林が広がり、人々は中・小型動物を狩り、どんぐりなどの木の実を採集した。
2. 海面が上昇して入り江が増えたことで漁がさかんになり、つりばりなどに骨角器が用いられた。
3. 表面をみがいて仕上げた磨製石器が用いられるようになった。
4. 人々は自然をおそれて崇拜し、埴輪^{はにわ}を用いた呪術的な風習があった。

(2) 考古展示室に展示されていた国宝「扁平鈕式銅鐸^{へんぺいちゅうしきどうたく}」をよく見ると、表面に絵が描かれていました。次の資料8はその絵を模写したものです。この絵から読み取れることについて述べた文X・Yの正誤の組み合わせとして正しいものを下の1～4から1つ選び、解答番号27に番号で答えなさい。

資料8



X. きねを用いて脱穀^{だっく}をする人や高床倉庫が描かれている。

Y. 石槍^{やり}を用いてシカを狩っている人が描かれている。

1. X：正 Y：正 2. X：正 Y：誤
3. X：誤 Y：正 4. X：誤 Y：誤

- (3) 展示スペース「巨大古墳こふんの時代—鉄器生産の増大—」に展示されていた鉄製のよろいに関心を持った小林さんは、「CoLBase」で検索し、その解説を読んでメモを取りました。資料9も参考にして、ヤマト政権と鉄に関して述べた文X・Yの正誤の組み合わせとして正しいものを下の1～4から1つ選び、**解答番号 28**に番号で答えなさい。

資料9：福井県二本松山古墳出土の鉄製よろいと小林さんのメモ



【メモ】

このよろいは古墳時代中期につくられた、日本列島に独自のよろいの形式の1つで、東北地方から九州地方に広く分布している。鉄素材を先端技術をもった渡来人とらいらが加工して当時のヤマト政権の中央であった近畿地方で大量に量産されたものであると考えられている。

出典：ColBase (<https://colbase.nich.go.jp/>)

X. ヤマト政権はつながりの深かった朝鮮半島南部から鉄を手に入れていた。

Y. 地方の豪族が力を強めることを防ぐため、大王の一族が鉄器を独占していた。

1. X：正 Y：正 2. X：正 Y：誤 3. X：誤 Y：正 4. X：誤 Y：誤

- (4) 展示スペース「律令国家の幕開け」にはたくさんのかわら瓦が展示されていました。この展示スペースに関する解説を読んで米田さんはメモを取りました。メモ中の空らん にあてはまる語句を**解答番号 29**に、空らん にあてはまる語句を**解答番号 30**にそれぞれ漢字で答えなさい。

【メモ】

瓦は6世紀終わりに日本に伝来し、当初、瓦は主に寺院の屋根にひかれていた。694年に持統天皇が遷都した の造営以降、宮廷や役所などにも用いられるようになった。その後、地方でも都を真似ながら各地で瓦造りが本格化したが、その背景には741年、聖武天皇によって を建てるのが命じられたことがあった。

- (5) 展示スペース「江戸から掘り出されたモノ」には、江戸時代の貨幣かへいが展示されていました。江戸時代の貨幣について述べた文として誤っているものを次の1～4から1つ選び、**解答番号 31**に番号で答えなさい。

1. 幕府は永楽通宝などの銅貨を作って全国に流通させた。
2. 幕府の財政を立て直すために金貨の質を落とすこともあった。
3. 江戸では主に金貨が、大阪では主に銀貨が用いられた。
4. 金・銀・銅貨の交換を行う両替商かつやくが活躍した。


問7 下線部⑦に関連して、以下の設問に答えなさい。

- (1) 展示スペース「書画の展開—安土桃山～江戸」には、江戸幕府の将軍の書も展示されており、11代将軍徳川家斉の書状もありました。徳川家斉の将軍在職中に行われた寛政の改革について述べた文として正しいものを次の1～4から1つ選び、**解答番号 32**に番号で答えなさい。

1. 物価の引き下げをはかるために、株仲間の解散を命じた。
2. 裁判の公正をはかるために、それまでの法令をまとめた公事方御定書をつくった。

3. 大名にききんや凶作きょうさくに備えて米をたくわえさせる囲い米じっしを実施させた。
4. キリスト教以外の外国の書物の輸入を認めた。
- (2) 次の資料10は展示スペース「浮世絵と衣装—江戸（浮世絵）」に展示されていた、江戸の名所を描いた、歌川広重の「江都勝景・よろみの渡し」である。この絵について述べた文X・Yの正誤の組み合わせとして正しいものを下の1～4から1つ選び、解答番号33に番号で答えなさい。

資料10



出典：文化遺産オンライン

X. 歌川広重は風景画を得意とし、他にも「富嶽三十六景」などの作品を残した。

Y. 江戸では物資の輸送や人の移動に川や運河が用いられていたことが読み取れる。

1. X：正 Y：正 2. X：正 Y：誤
3. X：誤 Y：正 4. X：誤 Y：誤

問8 下線部⑧に関することについて述べた文として誤っているものを次の1～4から1つ選び、解答番号34に番号で答えなさい。

1. 法隆寺は現存する世界最古の木造建築群とされ、世界遺産に認定されている。
2. 仏像を中に安置する玉虫厨子ずしが法隆寺に現存している。
3. 法隆寺の釈迦三尊像しゃかさんぞんは飛鳥時代の代表的な仏像である。
4. 法隆寺を建立した聖徳太子は蘇我氏そがを排除して天皇中心の政治を行った。

問9 下線部⑨について、この神社が祭神としてまつっている人物について述べた文として正しいものを次の1～4から1つ選び、解答番号35に番号で答えなさい。

1. 海外への渡航とこうを許す朱印状しゆいんを商人にあたえて、海外との貿易しょうらいを奨励した。
2. 安土城を築き、城下町で自由に商売ができる楽市・楽座を行った。
3. 2度にわたって朝鮮に大軍を送った。
4. 大仏をつくることを口実に、農民に刀や鉄砲などの武器を差し出させる刀狩を行った。

問10 空らん【 A 】にあてはまる、征韓論争せいかんをきっかけに政府を去って、郷里の鹿児島に戻った人物を解答番号36に漢字で答えなさい。

問11 文化財を展示する以外に博物館には「収集・保管」、「調査・研究」、「保存・修理」、「教育普及」の役割があります。次の博物館の取り組みア～エのうち、「調査・研究」と「保存・修理」にあてはまるものの組み合わせとして正しいものを下の1～4から1つ選び、解答番号37に番号で答えなさい。

- ア. 仏像の内部をエックス線CT装置で撮影した結果、小さな仏像が内部にあることが分かった。
- イ. 平安時代のものとしては希少な金剛力士立像こんこうを購入した。
- ウ. 多色刷りの浮世絵の仕組みをスタンプで体験することができるコーナーを館内に設置した。
- エ. 絵巻物の虫が食べてなくなってしまった部分を同じような材質の紙で補った。

1. 「調査・研究」—ア 「保存・修理」—ウ 2. 「調査・研究」—ア 「保存・修理」—エ
3. 「調査・研究」—イ 「保存・修理」—ウ 4. 「調査・研究」—イ 「保存・修理」—エ

3

次の各問いについて、解答番号 38～47 に正しく答えなさい。

問1 2024年10月、学生時代の逮捕を伝える投稿を「X(旧ツイッター)」上に残し続けることは更生を妨げ違法であるとして男性が訴えた裁判で、大阪地裁は「X」社に投稿の削除を命じました。これは、「時間が経過して投稿の役割が失われ、公表されない法的利益が優越する」と判断したためです。

近年、前科・前歴など公表されたくない情報の削除を求める権利は「忘れられる権利」とも呼ばれ、EU域内では保障が明文化されています。しかし、日本においては法律で明文化されてはおらず、「忘れられる権利」の保障が国民の「知る権利」の制約に繋がることが懸念されています。「知る権利」のように現在の日本国憲法には明文化されていないものの、社会の変化に伴って新たに主張されるようになった人権もあります。そのような人権として正しいものを次の1～4から1つ選び、解答番号38に番号で答えなさい。なお、選択肢に適切なものがない場合には、「5」と答えなさい。

1. 請願権 2. 団結権 3. 自己決定権 4. 国家賠償請求権

問2 2024年11月、政府は「防災庁」の設置に向けて準備室を立ち上げました。災害対策は現在、内閣府防災担当が担っていますが、防災庁の創設には、南海トラフ地震や首都直下地震などの巨大災害に備え、防災対策の企画立案業務を抜本的に強化する狙いがあります。近年、内閣直属の〔A〕庁(2021年9月)や内閣府外局の〔B〕庁(2023年4月)が相次いで発足しています。空らん〔A〕・〔B〕に入る語句の組み合わせとして正しいものを次の1～6から1つ選び、解答番号39に番号で答えなさい。

1. A: スポーツ B: デジタル 2. A: スポーツ B: こども家庭
3. A: デジタル B: スポーツ 4. A: デジタル B: こども家庭
5. A: こども家庭 B: スポーツ 6. A: こども家庭 B: デジタル

問3 2024年12月、核兵器の非人道性を語り継ぎ、核廃絶の必要性を唱えてきた「日本〔X〕被害者団体協議会(日本被団協)」がノーベル平和賞を受賞し、ノルウェーのオスロ市庁舎で授賞式が開催されました。この団体は、日本のマグロ漁船「第五福竜丸」の乗組員が、太平洋のビキニ環礁で行われたアメリカの実験で被曝したことをきっかけに国内で〔X〕禁止運動が高まりを見せていた1956年に結成されました。日本のノーベル平和賞受賞は、1974年の佐藤栄作元総理大臣以来です。

空らん〔X〕に入る語句を解答番号40に答えなさい。

問4 2024年12月、〔C〕をなくし貿易をしやすくする目的を持つ「環太平洋パートナーシップに関する包括的及び先進的な協定」に新たにイギリスが加盟し、参加国は12か国となりました。

この協定は、2017年の〔D〕政権時にアメリカ合衆国が「環太平洋経済連携(TPP)協定」離脱を表明したことがきっかけとなり、他の参加国によって締結されたものです。空らん〔C〕・〔D〕に入る語句の組み合わせとして正しいものを次の1～9から1つ選び、解答番号41に番号で答えなさい。

1. C: 法人税 D: トランプ 2. C: 法人税 D: オバマ 3. C: 法人税 D: バイデン
4. C: 消費税 D: トランプ 5. C: 消費税 D: オバマ 6. C: 消費税 D: バイデン
7. C: 関税 D: トランプ 8. C: 関税 D: オバマ 9. C: 関税 D: バイデン

問5 2025年3月、国際連合の常設機関である国際司法裁判所の所長に岩沢雄司^{いわさわゆうじ}さんが選出されました。日本人の所長は、元外務次官の小和田恒^{おわだひさし}さんに次いで2人目となります。岩沢さんは2018年に国際司法裁判所の裁判官に就任しました。国際連合について述べた文として誤っているものを次の1～4から1つ選び、解答番号42に番号で答えなさい。なお、すべて正しい場合には「5」と答えなさい。

1. 総会は、全加盟国に1票が与えられ、すべて議決は出席投票国の過半数の賛成で成立する。
2. 安全保障理事会は、常任理事国5か国と任期2年の非常任理事国10か国で構成されている。
3. 国際司法裁判所は、オランダのハーグに本部が置かれ、15名の裁判官で構成される。
4. 信託統治理事会は、信託統治地域の政治を監督^{かんとく}してきたが、現在は活動を停止している。

問6 2025年4月、秋篠宮悠仁親王^{あきしのみやひさひと}が筑波大学^{つくば}に進学されたとの報道がありました。戦後生まれの皇族の国立大学進学は初めてとのことですが、悠仁親王の進学の話が広くメディアで取り上げられるのは、悠仁親王が皇位継承^{けいしょう}資格者であることが一因であると考えられます。以下に示す文章内の下線部1～4に誤りがあれば、解答番号43に番号で答えるとともに、正しい語句を漢字で答えなさい。なお、すべて正しい場合には「5」および「なし」と答えなさい。

日本国憲法において規定されている天皇の行う国事^{こうい}行為には、国会の1召集^{しょうしゅう}、衆議院の2解散、最高裁判所長官の3任命、法律や条約の4公布などがある。

問7 2025年5月、フランシスコ前教皇の死去に伴って実施された教皇選挙で第267代教皇としてロバート・フランシス・プレボスト枢機卿^{すうききょう}が選出され、レオ14世として就任しました。今回の選挙には70か国133人の枢機卿が参加しましたが、フランシスコ前教皇が新興国・途上国から枢機卿を積極的に任命したこともあり、結果、ヨーロッパの枢機卿の割合は半分以下でした。

このような新興国・途上国のことを北半球に多く存在する先進国と対比する形で近年、と呼んでいます。空らんに入る語句を解答番号44にカタカナ8字で答えなさい。

問8 2025年5月、定数14名の千葉県多古町^{たこまち}議会で、議長選が3日間で計26回繰り返されても決まらないという事態が起きました。これは、多古町議会が町長派、反町長派ともに7人のため、議長に選出されてしまうと少数派になってしまう、ということが背景にあるようです。抽選^{ちゅうせん}によって選出された議員も一身上の都合などを理由に辞退したそうです。地方自治について述べた文X・Yの正誤の組み合わせとして正しいものを下の1～4から1つ選び、解答番号45に番号で答えなさい。

- X. 議会は首長の不信任決議を出すことができるが、首長は議会を解散することはできない。
Y. 条例の制定は有権者の50分の1以上の署名で首長に請求することができる。

1. X：正 Y：正 2. X：正 Y：誤 3. X：誤 Y：正 4. X：誤 Y：誤

問9 2025年6月より、罪を犯した人への刑罰の「懲役」と「禁錮」が刑法の改正で廃止され「拘禁刑」という新たな刑罰に一本化されました。新たな刑罰の導入は1907年の現行刑法制定以来初となり、刑務所では再犯防止のための立ち直りに重点を置いた指導へと転換されました。日本の司法制度について述べた文X・Yの正誤の組み合わせとして正しいものを下の1～4から1つ選び、**解答番号46**に番号で答えなさい。

X. 最高裁判所のみ違憲立法審査権を有するため、「憲法の番人」と呼ばれる。

Y. 裁判官は弾劾裁判以外では、辞めさせることはできない。

1. X：正 Y：正 2. X：正 Y：誤 3. X：誤 Y：正 4. X：誤 Y：誤

問10 2025年7月に第27回参議院議員通常選挙が行われました。国内においては、2024年の東京都知事選挙や第50回衆議院議員総選挙、国外に目を転じると2024年のロシア大統領選挙やアメリカ大統領選挙、2025年の韓国大統領選挙と注目度の高い選挙が立て続けに実施されました。日本における選挙について述べた文として正しいものを次の1～4から1つ選び、**解答番号47**に番号で答えなさい。なお、すべて誤っている場合には「5」と答えなさい。

1. 国政選挙は30歳以上、首長選挙は25歳以上が被選挙権を持つ。
2. 国政選挙において「一票の格差」が「違憲状態」にあると裁判所が判断したことがある。
3. 大規模な選挙のため、国政選挙と首長選挙は必ず別日に実施しなければならない。
4. 国政選挙で期日前投票制度を実施するか否かは、その都度首相が判断し決定する。